
	Manual de prácticas del Laboratorio de Química	Código:	MADO-12
		Versión:	05
		Página	1/104
		Sección ISO	8.3
		Fecha de emisión	08 de agosto de 2025
Facultad de Ingeniería		Área/Departamento: Laboratorio de Química	
La impresión de este documento es una copia no controlada			


Manual de Prácticas del Laboratorio de Química

Elaborado por:	Revisado por:	Autorizado por:	Vigente desde:
Dr. Rogelio Soto Ayala M. en E. Antonia del Carmen Pérez León M. en C. Alfredo Velásquez Márquez Dra. Ana Laura Pérez Martínez Quím. Esther Flores Cruz Dr. Ehecatl Luis David Paleo González M. en C. Miguel Angel Jaime Vasconcelos	M. en E. Antonia del Carmen Pérez León M. en C. Alfredo Velásquez Márquez Dra. Ana Laura Pérez Martínez Quím. Esther Flores Cruz Dr. Ehecatl Luis David Paleo González M. en C. Miguel Angel Jaime Vasconcelos	M. en I. Mayverena Jurado Pineda	08 de agosto de 2025

	Manual de prácticas del Laboratorio de Química	Código:	MADO-12
		Versión:	05
		Página	2/104
		Sección ISO	8.3
		Fecha de emisión	08 de agosto de 2025
Facultad de Ingeniería		Área/Departamento: Laboratorio de Química	
La impresión de este documento es una copia no controlada			


Índice de prácticas

Práctica	Nombre de la práctica	Página
1	EQUIPO DE LABORATORIO Y MEDIDAS DE SEGURIDAD	3
2	DETERMINACIÓN DE LA DENSIDAD EN DISOLUCIONES	11
3	EXPERIMENTO DE J. J. THOMSON	23
4	EL CICLO DEL SULFATO DE COBRE PENTAHIDRATADO	33
5	PREPARACIÓN Y CONDUCTIVIDAD DE DISOLUCIONES	40
6	CÁLCULO DEL RENDIMIENTO PORCENTUAL DE UNA REACCIÓN QUÍMICA	48
7	TERMOQUÍMICA. DETERMINACIÓN DE LA ENTALPIA DE UNA REACCIÓN QUÍMICA	60
8	EQUILIBRIO QUÍMICO	72
9	ELECTROQUÍMICA. ELECTRÓLISIS DE DISOLUCIONES ACUOSAS Y CONSTANTE DE AVOGADRO	83
10	CONSTRUCCIÓN DE UNA PILA	94

	Manual de prácticas del Laboratorio de Química	Código:	MADO-12
		Versión:	05
		Página	3/104
		Sección ISO	8.3
		Fecha de emisión	08 de agosto de 2025
Facultad de Ingeniería		Área/Departamento: Laboratorio de Química	
La impresión de este documento es una copia no controlada			

Práctica 1

EQUIPO DE LABORATORIO Y MEDIDAS DE SEGURIDAD

	Manual de prácticas del Laboratorio de Química	Código:	MADO-12
		Versión:	05
		Página	4/104
		Sección ISO	8.3
		Fecha de emisión	08 de agosto de 2025
Facultad de Ingeniería		Área/Departamento: Laboratorio de Química	
La impresión de este documento es una copia no controlada			

1. SEGURIDAD EN LA EJECUCIÓN

	Peligro o fuente de energía	Riesgo asociado
1	Ninguno.	Ninguno.

2. OBJETIVOS

EL ALUMNADO:


1. Conocerá las reglas básicas de higiene y seguridad que se deben aplicar en un Laboratorio de Química.
2. Se enterará del uso y de las precauciones que hay que considerar al manipular el material y equipo que se empleará en el curso.
3. Conocerá para algunas de las sustancias químicas empleadas en el curso, sus usos y precauciones.

3. INTRODUCCIÓN

Para entender mejor los principios básicos de la Química es indispensable la experimentación. El laboratorio de Química es el lugar donde se comprueba la validez de dichos principios; ofrece también la oportunidad de conocer mejor los procesos químicos que ocurren en la naturaleza. Sin embargo, para conseguir dicho objetivo es imprescindible realizar análisis químicos confiables, y esto sólo puede lograrse, si se conoce el manejo adecuado del equipo y de los reactivos químicos que existen en el laboratorio.

Por otro lado, un aspecto fundamental que se debe considerar en un Laboratorio de Química es la seguridad, pues el trabajo en dicho lugar implica que la persona que lleva al cabo la experimentación se exponga a una gran variedad de sustancias químicas, muchas de las cuales conllevan ciertos riesgos durante su manipulación. Por lo anterior, es indispensable tener un reglamento de higiene y seguridad con el fin de reducir riesgos en el manejo del material, equipo y sustancias químicas.

Al trabajar con reactivos químicos, es necesario conocer las propiedades de las sustancias empleadas y las precauciones que deben observarse durante su manipulación. Debido a lo anterior, es necesario saber qué tipo de información puede y debe brindar la etiqueta de cualquier sustancia química.

	Manual de prácticas del Laboratorio de Química	Código:	MADO-12
		Versión:	05
		Página	5/104
		Sección ISO	8.3
		Fecha de emisión	08 de agosto de 2025
Facultad de Ingeniería		Área/Departamento: Laboratorio de Química	
La impresión de este documento es una copia no controlada			

4. REACTIVOS

Algunos reactivos que se pueden emplear son:


- 1) Bicarbonato de sodio, NaHCO_3 .
- 2) Bromuro de potasio, KBr .
- 3) Hidróxido de sodio, NaOH .
- 4) Metanol, CH_3OH .
- 5) Ácido clorhídrico, HCl .
- 6) Sulfato de cobre pentahidratado, $\text{CuSO}_4 \cdot 5\text{H}_2\text{O}$.

5. MATERIAL Y EQUIPO

Algunos de los materiales que se emplearán en el laboratorio se muestran en las figuras siguientes:



- | | | |
|--------------------------|--------------------------|---------------------------------|
| 1. frascos de vidrio | 11. termómetro | 21. vidrio de reloj |
| 2. picnómetro | 12. cápsula de porcelana | 22. espátula de doble punta |
| 3. probeta | 13. émbolo de succión | 23. espátula de mango de madera |
| 4. matraz Erlenmeyer | 14. cronómetro | 24. tubo de ensayo |
| 5. vaso de precipitados | 15. mortero | 25. escobillón |
| 6. matraz aforado | 16. pistilo | 26. pinzas para tubo de ensayo |
| 7. frasco con gotero | 17. agitador magnético | 27. gradilla |
| 8. piseta | 18. tapón de hule | 28. embudo de vidrio |
| 9. bureta | 19. pipeta aforada | |
| 10. pinzas de tres dedos | 20. pipeta graduada | |

	Manual de prácticas del Laboratorio de Química	Código:	MADO-12
		Versión:	05
		Página	6/104
		Sección ISO	8.3
		Fecha de emisión	08 de agosto de 2025
Facultad de Ingeniería		Área/Departamento: Laboratorio de Química	
La impresión de este documento es una copia no controlada			




- 29. aparato para determinar punto de fusión
- 30. aparato para determinar la relación carga-masa de los rayos catódicos
- 31. balanza semianalítica
- 32. parrilla de calentamiento
- 33. potenciómetro
- 34. conductímetro
- 35. balanza granataria

6. DESARROLLO

ACTIVIDAD 1.

La figura docente dará lectura ante el grupo del reglamento interno de higiene y seguridad para el Laboratorio de Química y discutirá con el alumnado los puntos más importantes del mismo.

	Manual de prácticas del Laboratorio de Química	Código:	MADO-12
		Versión:	05
		Página	7/104
		Sección ISO	8.3
		Fecha de emisión	08 de agosto de 2025
Facultad de Ingeniería		Área/Departamento: Laboratorio de Química	
La impresión de este documento es una copia no controlada			

ACTIVIDAD 2


La figura docente mostrará al alumnado cada uno de los materiales y equipos más comunes, existentes en el laboratorio e indicará el procedimiento correcto para su uso.

ACTIVIDAD 3

La figura docente mostrará al alumnado algunos de los reactivos que se tienen en el laboratorio, indicará cuáles son sus características y los cuidados que deben tenerse durante su manipulación, así como la información que debe contener cada etiqueta.


ACTIVIDAD 4

1. Con base en lo aprendido en la clase, indique qué material y equipo podría emplearse para:
 - a) Medir volúmenes.
 - b) Determinar densidades.
 - c) Preparar disoluciones.
 - d) Medir pH.
2. Indique cuál es el uso para el material o equipo siguiente:
 - a) Conductímetro.
 - b) Fuente de poder.
 - c) Piseta.
 - d) Parrilla.
3. Investigue y cite algunas otras reglas básicas de seguridad que usted considere importantes y que no hayan sido mencionadas por la figura docente.
4. Haga una inspección del laboratorio y diga si las instalaciones son las adecuadas para trabajar con seguridad.

	Manual de prácticas del Laboratorio de Química	Código:	MADO-12
		Versión:	05
		Página	8/104
		Sección ISO	8.3
		Fecha de emisión	08 de agosto de 2025
Facultad de Ingeniería		Área/Departamento: Laboratorio de Química	
La impresión de este documento es una copia no controlada			


7. FUENTES ELECTRÓNICAS

1. Huanca, A. (s. f.). Instrumentos del laboratorio de química [Publicación en línea]. Recuperado de <http://monografias.com/trabajos72/instrumentos-laboratorio-quimica/instrumentos-laboratorio-quimica.shtml>
2. Materiales e instrumentos de un laboratorio químico [Publicación en línea]. (s. f.). Recuperado de <http://tplaboratorioquimico.com/laboratorio-quimico/materiales-e-instrumentos-de-un-laboratorio-quimico.html>
3. La Rosa, D., & Vargas, M. (2013, mayo 7). Materiales de laboratorio: un vistazo rápido [Entrada del blog]. Recuperado de <http://laboratorio-quimico.blogspot.mx/2013/05/materiales-de-laboratorio-un-vistazo.html>
4. Normas de seguridad en el laboratorio [Publicación en línea]. (s. f.). Recuperado de <http://www.quimicaweb.net/ciencia/paginas/laboratorio/normas.html>
5. Sistema globalmente armonizado de clasificación y etiquetado de productos químicos [Publicación en línea]. (s. f.). Recuperado de <http://ghs-sga.com/>
6. La Rosa, D., & Vargas, M. (2013, noviembre 19). Códigos de color de almacenamiento para productos químicos [Entrada del blog]. Recuperado de <http://laboratorio-quimico.blogspot.mx/2013/11/codigos-de-color-de-almacenamiento-para.html>
7. Señales de prevención de riesgos y accidentes en el laboratorio [Publicación en línea]. (s. f.). Recuperado de <http://100ciaquimica.net/labor/piclaborat1.htm>
8. Señalización de recipientes y tuberías: aplicaciones prácticas [Publicación en línea]. (2006, octubre 1). Recuperado de <http://interempresas.net/Quimica/Articulos/14787-Senalizacion-de-recipientes-y-tuberias-aplicaciones-practicas.html>
9. Tipo y clasificación de los extintores [Publicación en línea]. (s. f.). Recuperado de <http://misextintores.com/lci/tipo-y-clasificacion-de-los-extintores>
10. Definición, clasificación y tipos de extintores: tipos de fuegos [Entrada del blog]. (s. f.). Recuperado de <http://profuego.es/definicion-tipo-y-clasificacion-de-extintores/>

	Manual de prácticas del Laboratorio de Química	Código:	MADO-12
		Versión:	05
		Página	9/104
		Sección ISO	8.3
		Fecha de emisión	08 de agosto de 2025
Facultad de Ingeniería		Área/Departamento: Laboratorio de Química	
La impresión de este documento es una copia no controlada			


CUESTIONARIO PREVIO EQUIPO DE LABORATORIO Y MEDIDAS DE SEGURIDAD

1. Cite al menos tres de los accidentes que pueden presentarse en el Laboratorio de Química y mencione cómo evitarlos.
2. Investigue las propiedades de las sustancias químicas siguientes: ácido sulfúrico, ácido clorhídrico, hidróxido de sodio, bicarbonato de sodio, metanol y sulfato de cobre pentahidratado.
3. Cite al menos cinco sustancias químicas de uso común en la vida diaria.
4. Investigue cuántas clases de fuego existen y qué tipo de extintores se emplean en cada caso.
5. ¿Cuál es la información mínima que debe contener la etiqueta de un reactivo químico?
6. Dibuje los pictogramas alusivos a las características siguientes que puede tener un reactivo químico:
 - a) Explosivo
 - b) Oxidante o comburente
 - c) Inflamable
 - d) Tóxico
 - e) Irritante
 - f) Corrosivo
 - g) Peligroso para el medio ambiente

	Manual de prácticas del Laboratorio de Química	Código:	MADO-12
		Versión:	05
		Página	10/104
		Sección ISO	8.3
		Fecha de emisión	08 de agosto de 2025
Facultad de Ingeniería		Área/Departamento: Laboratorio de Química	
La impresión de este documento es una copia no controlada			


FUENTES ELECTRÓNICAS

1. Huanca, A. (s. f.). Instrumentos del laboratorio de química [Publicación en línea]. Recuperado de <http://monografias.com/trabajos72/instrumentos-laboratorio-quimica/instrumentos-laboratorio-quimica.shtml>
2. Materiales e instrumentos de un laboratorio químico [Publicación en línea]. (s. f.). Recuperado de <http://tplaboratorioquimico.com/laboratorio-quimico/materiales-e-instrumentos-de-un-laboratorio-quimico.html>
3. La Rosa, D., & Vargas, M. (2013, mayo 7). Materiales de laboratorio: un vistazo rápido [Entrada del blog]. Recuperado de <http://laboratorio-quimico.blogspot.mx/2013/05/materiales-de-laboratorio-un-vistazo.html>
4. Normas de seguridad en el laboratorio [Publicación en línea]. (s. f.). Recuperado de <http://www.quimicaweb.net/ciencia/paginas/laboratorio/normas.html>
5. Sistema globalmente armonizado de clasificación y etiquetado de productos químicos [Publicación en línea]. (s. f.). Recuperado de <http://ghs-sga.com/>
6. La Rosa, D., & Vargas, M. (2013, noviembre 19). Códigos de color de almacenamiento para productos químicos [Entrada del blog]. Recuperado de <http://laboratorio-quimico.blogspot.mx/2013/11/codigos-de-color-de-almacenamiento-para.html>
7. Señales de prevención de riesgos y accidentes en el laboratorio [Publicación en línea]. (s. f.). Recuperado de <http://100ciaquimica.net/labor/piclaborat1.htm>
8. Señalización de recipientes y tuberías: aplicaciones prácticas [Publicación en línea]. (2006, octubre 1). Recuperado de <http://interempresas.net/Quimica/Articulos/14787-Senalizacion-de-recipientes-y-tuberias-aplicaciones-practicas.html>
9. Tipo y clasificación de los extintores [Publicación en línea]. (s. f.). Recuperado de <http://misextintores.com/lci/tipo-y-clasificacion-de-los-extintores>
10. Definición, clasificación y tipos de extintores: tipos de fuegos [Entrada del blog]. (s. f.). Recuperado de <http://profuego.es/definicion-tipo-y-clasificacion-de-extintores/>

	Manual de prácticas del Laboratorio de Química	Código:	MADO-12
		Versión:	05
		Página	11/104
		Sección ISO	8.3
		Fecha de emisión	08 de agosto de 2025
Facultad de Ingeniería		Área/Departamento: Laboratorio de Química	
La impresión de este documento es una copia no controlada			

Práctica 2

DETERMINACIÓN DE LA DENSIDAD EN DISOLUCIONES.

	Manual de prácticas del Laboratorio de Química	Código:	MADO-12
		Versión:	05
		Página	12/104
		Sección ISO	8.3
		Fecha de emisión	08 de agosto de 2025
Facultad de Ingeniería		Área/Departamento: Laboratorio de Química	
La impresión de este documento es una copia no controlada			

1. SEGURIDAD EN LA EJECUCIÓN

	Peligro o fuente de energía	Riesgo asociado
1	Manejo de material de vidrio	Si es manipulado inadecuadamente puede romperse en fragmentos filosos.
2	Termómetro del picnómetro	La densidad del mercurio puede romper la ampolla donde está contenido. La manipulación inapropiada puede romper el instrumento, lo que genera fragmentos punzocortantes e intoxicación.

2. OBJETIVOS

EL ALUMNADO:

1. Identificará las características estáticas de algunos instrumentos utilizados.
2. Preparará una disolución utilizando el material de vidrio adecuado.
3. Determinará la densidad de una disolución por triplicado y calculará la media, la desviación estándar y la incertidumbre a partir de sus datos experimentales.
4. Identificará la relación que existe entre la concentración molar y la densidad.

3. INTRODUCCIÓN


El proceso de medición es fundamental en el laboratorio de química y para realizarlo usaremos diferentes instrumentos y equipos como los que se conocieron en la práctica previa. Sin embargo, también es importante que al realizar una medición tengamos conocimiento de las características de los instrumentos de medición que serán utilizados. Las características de un instrumento de medición se clasifican en dos grandes categorías: características estáticas y características dinámicas.

Las características estáticas son aquellas que se identifican sin la necesidad de poner en funcionamiento al instrumento mientras las características dinámicas requieren que el instrumento se encuentre en funcionamiento para ser identificadas. Dentro de las características estáticas se encuentran el rango, la resolución y la legibilidad mientras que dentro de las características dinámicas están la sensibilidad, la precisión y la exactitud.

La densidad de una sustancia se define como el cociente de su masa en cada unidad de volumen. Por lo tanto, si conocemos la masa y el volumen de una sustancia, en cualquier fase (sólido, líquido o gaseoso) se puede determinar su densidad a través de la expresión:

$$\rho = \frac{m}{V}$$

donde: ρ es la densidad, m la masa y V el volumen de la sustancia considerada.

	Manual de prácticas del Laboratorio de Química	Código:	MADO-12
		Versión:	05
		Página	13/104
		Sección ISO	8.3
		Fecha de emisión	08 de agosto de 2025
Facultad de Ingeniería		Área/Departamento: Laboratorio de Química	
La impresión de este documento es una copia no controlada			

La densidad es una propiedad intensiva, lo que significa que su valor es independiente de la cantidad de materia. De esta forma, el valor de densidad de un material no cambia con el tamaño de la muestra en la que ha sido determinada.

Por otra parte, al evaluar la densidad es muy importante que se indique la temperatura de trabajo, ya que su valor depende de la temperatura. Esto se explica como resultado de la influencia que ésta tiene sobre el volumen de los cuerpos. Es de todos conocido que a mayor temperatura los cuerpos aumentan su volumen pero al ocurrir esto, también disminuye su densidad.

Una disolución es un sistema disperso (mezcla) cuyos componentes mínimos son un soluto y un disolvente. El soluto es el componente más importante, su cantidad define la composición del sistema mientras que el disolvente es el componente que está en mayor cantidad y funciona como el medio dispersante dentro del cual se encuentran distribuidas de forma homogénea las partículas del soluto.

La cantidad de soluto que hay en la disolución se indica en términos de la concentración, la cual se define en términos generales como el cociente de la cantidad de soluto y la cantidad de disolución:

$$\text{Concentración} = \frac{\text{cantidad de soluto}}{\text{cantidad de disolución}}$$


Cuando la cantidad de soluto se expresa en términos de **cantidad de sustancia**: n [mol] y la cantidad de disolución en términos de **capacidad volumétrica**, expresada en litros: V [l] la concentración recibe el nombre de concentración molar, C_M .

$$C_M = \frac{n \text{ [mol]}}{V \text{ [l]}}$$

La **cantidad de sustancia** es una magnitud que nos permite evaluar la cantidad de materia en términos de conjuntos de “partículas” (que pueden ser átomos, moléculas o iones) a los que damos el nombre de moles o mol. De esta forma, cuando usamos la palabra “mol” estamos haciendo referencia a un conjunto de partículas.

Para calcular la cantidad de sustancia, n , debemos usar la masa expresada en gramos, m , de dicha sustancia y dividirla entre su masa molar, MM .

$$n_x \text{ [mol]} = \frac{m_x \text{ [g]}}{MM_x \left[\frac{\text{g}}{\text{mol}} \right]}$$

	Manual de prácticas del Laboratorio de Química	Código:	MADO-12
		Versión:	05
		Página	14/104
		Sección ISO	8.3
		Fecha de emisión	08 de agosto de 2025
Facultad de Ingeniería		Área/Departamento: Laboratorio de Química	
La impresión de este documento es una copia no controlada			

La masa molar, MM, se calcula a partir de la fórmula química de la sustancia y los valores de pesos atómicos de los átomos indicados en la fórmula. Para ello se deben sumar los pesos atómicos de todos los átomos indicados en la fórmula y expresando el resultado en [g/mol].

$$MM_i \left[\frac{g}{mol} \right] = \left(\frac{1 \left[\frac{g}{mol} \right]}{1 [u]} \right) \sum_{i=1}^n P. at. i$$

Ejemplo:

La masa molar del cloruro de sodio, NaCl (MM_{NaCl}) se calcula al sumar los pesos atómicos del Na y el Cl:


$$MM_{NaCl} = \left(\frac{1 \left[\frac{g}{mol} \right]}{1 [u]} \right) (22.99 [u] + 35.45 [u]) = 58.44 \left[\frac{g}{mol} \right]$$

En esta práctica se evaluará la densidad de disoluciones con diferente concentración molar de cloruro de sodio (NaCl).

La determinación de la densidad en disoluciones se realiza gracias a un instrumento llamado picnómetro, el cual es un instrumento sencillo que permite evaluar la densidad de un líquido. Es importante mencionar que los picnómetros deben de estar calibrados. La mayoría de ellos tienen un termómetro para el registro de la temperatura.



Figura 1. Picnómetro.

	Manual de prácticas del Laboratorio de Química	Código:	MADO-12
		Versión:	05
		Página	15/104
		Sección ISO	8.3
		Fecha de emisión	08 de agosto de 2025
Facultad de Ingeniería		Área/Departamento: Laboratorio de Química	
La impresión de este documento es una copia no controlada			

4. MATERIAL Y EQUIPO

- a) 1 vaso de precipitado de 30 [ml].
- b) 1 matraz volumétrico de 50 [ml].
- c) 1 balanza semianalítica.
- d) 1 picnómetro con termómetro.
- e) 1 agitador de vidrio.
- f) 1 espátula.
- g) 1 piseta.
- h) 1 embudo

5. REACTIVOS

- 1) Cloruro de Sodio, NaCl.
- 2) Agua de la llave.

6. DESARROLLO

ACTIVIDAD 1

La figura docente verificará que el alumnado posea los conocimientos teóricos necesarios para la realización de la práctica y dará las recomendaciones necesarias para el manejo del material.

ACTIVIDAD 2.

Características estáticas de los instrumentos.


Registre para cada instrumento las siguientes características estáticas:

Instrumento	Rango	Resolución	Legibilidad
Balanza			
Termómetro			
Matraz volumétrico de 50 [ml]			
Vaso de precipitados de 30 [ml]			
Probeta de 10 [ml]			

ACTIVIDAD 3.

Preparación de la disolución:

1. La figura docente asignará a cada brigada la masa en gramos de NaCl que deben usar para preparar la disolución, (ver tabla 1).
2. Mida en un vaso de precipitados de 30 [ml], con ayuda de la balanza, la masa de NaCl asignada a la brigada y agregue 20 [ml] de agua para disolver.

	Manual de prácticas del Laboratorio de Química	Código:	MADO-12
		Versión:	05
		Página	16/104
		Sección ISO	8.3
		Fecha de emisión	08 de agosto de 2025
Facultad de Ingeniería		Área/Departamento: Laboratorio de Química	
La impresión de este documento es una copia no controlada			

- Vierta el contenido del vaso de precipitados a un matraz volumétrico de 50 [ml].
- Con ayuda de la piseta enjuague el vaso de precipitado con aproximadamente 5 [ml] de agua destilada y adicione el líquido de lavado, en el matraz volumétrico de 50 [ml].
- Lleve hasta la marca del aforo con agua y agite hasta obtener una disolución homogénea.
- Calcule la concentración molar de la disolución que ha preparado y complete la tabla 1.




Tabla 1. Disoluciones trabajadas por brigada.

Disolución	Brigada	Masa de NaCl [g]	Volumen de disolución [ml]	Concentración molar de la disolución [M]
A		1.0	50	
B		2.0	50	
C		3.0	50	
D		4.0	50	
E		5.0	50	
F		6.0	50	

ACTIVIDAD 4

Determinación de la densidad de la disolución:

- Anote el *volumen del picnómetro* en [cm³]: (V_p). Este dato está registrado en la pared del picnómetro.
- Verifique que el picnómetro se encuentre totalmente seco y limpio.

	Manual de prácticas del Laboratorio de Química	Código:	MADO-12
		Versión:	05
		Página	17/104
		Sección ISO	8.3
		Fecha de emisión	08 de agosto de 2025
Facultad de Ingeniería		Área/Departamento: Laboratorio de Química	
La impresión de este documento es una copia no controlada			

- Arme por completo el picnómetro colocando sus tapones y determine su masa con ayuda de la balanza. Registre este dato como la *masa del picnómetro vacío* (m_{pv}).
- Registre el volumen y la masa del picnómetro vacío en la siguiente tabla:

Tabla 2. Datos del picnómetro

Volumen del picnómetro (V_p): _____ [cm ³]; _____ [ml]; _____ [m ³].
Masa del picnómetro vacío (m_{pv}): _____ [g]; _____ [kg].


Primera determinación de la densidad.

- Retire el tapón y termómetro del picnómetro y llénelo completamente con la disolución preparada. Al terminar, coloque de nueva cuenta el termómetro, el tapón y seque perfectamente el exterior del dispositivo.
- Registre la temperatura de la disolución.
- Mida y registre la masa del picnómetro lleno con la disolución (m_{p+d}).

Segunda determinación de la densidad.

- Retire los tapones del picnómetro y añada más disolución para llenarlo por completo nuevamente como en el punto 4. Al terminar, coloque de nueva cuenta tanto el termómetro como el tapón y seque perfectamente el exterior del dispositivo.
- Registre la temperatura de la disolución.
- Mida y registre la masa del picnómetro lleno con la disolución (m_{p+d}) por segunda vez.



	Manual de prácticas del Laboratorio de Química	Código:	MADO-12
		Versión:	05
		Página	18/104
		Sección ISO	8.3
		Fecha de emisión	08 de agosto de 2025
Facultad de Ingeniería		Área/Departamento: Laboratorio de Química	
La impresión de este documento es una copia no controlada			

Tercera determinación de la densidad.

11. Retire los tapones del picnómetro y añada más disolución para llenarlo por completo nuevamente como en los puntos 4 y 7. Al terminar, coloque de nueva cuenta tanto el termómetro como el tapón y seque perfectamente el exterior del dispositivo.
12. Registre la temperatura de la disolución.
13. Mida y registre la masa del picnómetro lleno con la disolución (m_{p+d}) por tercera vez.

MANEJO DE RESIDUOS

Las disoluciones de NaCl se desechan a la tarja.

Registro de datos.

14. Complete la tabla 3 con los datos de volumen del picnómetro y masa del picnómetro vacío de la tabla 2. Anote además los datos obtenidos de T [°C] y m_{p+d} . Finalmente, calcule la masa de la disolución (m_d) en cada determinación, para ello debe restar la masa del picnómetro vacío (m_{pv}) a la masa del picnómetro con disolución (m_{p+d}):

$$m_d = m_{p+d} - m_{pv}$$

Finalmente, calcule la densidad para cada una de las tres determinaciones dividiendo la masa de la disolución, m_d , entre el volumen del picnómetro vacío, V_p .

$$\rho = \frac{m_d}{V_p}$$


	Manual de prácticas del Laboratorio de Química	Código:	MADO-12
		Versión:	05
		Página	19/104
		Sección ISO	8.3
		Fecha de emisión	08 de agosto de 2025
Facultad de Ingeniería		Área/Departamento: Laboratorio de Química	
La impresión de este documento es una copia no controlada			

Tabla 3. Datos de la disolución trabajada.

	V_p [ml]	m_{pv} [g]	T [°C]	masa del picnómetro con disolución m_{p+d} [g]	masa de la disolución $m_d[g] = m_{p+d} - m_{pv}$	densidad $\rho \left[\frac{g}{ml} \right] = \frac{m_d}{V_p}$
Primera determinación						
Segunda determinación						
Tercera determinación						

15. Comparta sus datos con el resto del grupo llenando la tabla 4 para ello la brigada deberá anotar la concentración molar de la disolución trabajada, que calculó para la tabla 1 y realizar los cálculos necesarios para:

- Promediar los valores de temperatura registrados en cada determinación.
- Transformar los valores de volumen de picnómetro (V_p) y masa de disolución (m_d) de cada determinación a las unidades usadas en el sistema internacional.
- Calcular la densidad en $[kg/m^3]$ para cada determinación.
- Obtener la densidad promedio en $[kg/m^3]$ a partir de sus tres determinaciones.
- Obtener la desviación estándar de las tres mediciones.
- Obtener la incertidumbre de la densidad a partir de la siguiente expresión:

$$I = \frac{\sigma}{\sqrt{n-1}}$$

I : incertidumbre

σ : desviación estándar

n : número de mediciones



	Manual de prácticas del Laboratorio de Química	Código:	MADO-12
		Versión:	05
		Página	20/104
		Sección ISO	8.3
		Fecha de emisión	08 de agosto de 2025
Facultad de Ingeniería		Área/Departamento: Laboratorio de Química	
La impresión de este documento es una copia no controlada			

Tabla 4. Datos de densidad y concentración molar de todo el grupo.

B R I G A D A	D i s o l u c i ó n	C_M Conc. molar	$T_{promedio}$	V_p Vol. del picnó metro	m_d masa de la disolución $m_d = m_{p+d} - m_{pv}$	ρ Densidad $\rho = \frac{m_d}{V_p}$	$\rho_{prom.}$ Densidad promedio	σ_{dens} Desviación estándar de la densidad	I Incertidumbre
		[M]	[°C]	[m ³]	[kg]	$\left[\frac{kg}{m^3}\right]$	$\left[\frac{kg}{m^3}\right]$	$\left[\frac{kg}{m^3}\right]$	$\left[\frac{kg}{m^3}\right]$
1	A								
2	B								
3	C								
4	D								
5	E								
6	F								

	Manual de prácticas del Laboratorio de Química	Código:	MADO-12
		Versión:	05
		Página	21/104
		Sección ISO	8.3
		Fecha de emisión	08 de agosto de 2025
Facultad de Ingeniería		Área/Departamento: Laboratorio de Química	
La impresión de este documento es una copia no controlada			

ACTIVIDAD 5


- Con los datos de la tabla 4 de todo el grupo, trace una gráfica de $\rho_{prom.} = f(C_M)$
- ¿Cuál es el comportamiento observado de la densidad respecto a la concentración? Exprese la relación matemática, obteniéndola a partir del ajuste matemático a los datos experimentales.
- Con los resultados obtenidos infiera:
 - La concentración molar de sal en el agua de mar. Considere que la densidad del agua de mar es aproximadamente 1030 [kg/m³].
 - La densidad de una salmuera para alimentos que contiene 8.97 [g] de NaCl en cada 50 [ml] de disolución.

7. BIBLIOGRAFÍA

- Whitten, K.W., Davis, R.E., Peck, M.L., Stanley, G.G. (2015). *Química*.
- Chang, R., & Goldsby, K. A. (2013). *Química*.
- Brown, T., Le May, E., & Burnsten, B. (2014). *Química: la ciencia central*.
- Garriz, A., Gasque, L., & Martínez, A. (2005). *Química Universitaria*. *
- Russell, J., & Larena, A. (1988). *Química General*.
- Summers, D. (1983). *Manual de química*. *

Sitios web:

- Pérez, O. de J. (s.f.). *Práctica 1: Caracterización de un voltímetro analógico*. [Archivo PDF]. Universidad Nacional Autónoma de México, Facultad de Ingeniería. Recuperado de https://dcb.ingenieria.unam.mx/wp-content/themes/temperachild/CoordinacionesAcademicas/FQ/MaterialFE/LFE_P01.pdf

	Manual de prácticas del Laboratorio de Química	Código:	MADO-12
		Versión:	05
		Página	22/104
		Sección ISO	8.3
		Fecha de emisión	08 de agosto de 2025
Facultad de Ingeniería		Área/Departamento: Laboratorio de Química	
La impresión de este documento es una copia no controlada			

CUESTIONARIO PREVIO DETERMINACIÓN DE LA DENSIDAD DE UNA DISOLUCIÓN


1. Describa la definición de las siguientes características estáticas: rango, resolución y legibilidad.
2. Explique qué es una disolución.
3. Investigue las formas más comunes de expresar la concentración de una disolución, indique las unidades y cómo se calculan.
4. Explique la relación entre densidad y temperatura.
5. Mencione los tipos de errores que pueden presentarse en una medición.
6. Investigue cómo se calcula la desviación estándar y la incertidumbre. Asimismo, explique qué representan estos valores.

7. BIBLIOGRAFÍA

1. Whitten, K.W., Davis, R.E., Peck, M.L., Stanley, G.G. (2015). *Química*.
2. Chang, R., & Goldsby, K. A. (2013). *Química*.
3. Brown, T., Le May, E., & Burnsten, B. (2014). *Química: la ciencia central*.
4. Garritz, A., Gasque, L., & Martínez, A. (2005). *Química Universitaria*. *
5. Russell, J., & Larena, A. (1988). *Química General*.
6. Summers, D. (1983). *Manual de química*. *


Sitios web:

7. Pérez, O. de J. (s.f.). *Práctica 1: Caracterización de un voltímetro analógico*. [Archivo PDF]. Universidad Nacional Autónoma de México, Facultad de Ingeniería. Recuperado de https://dcb.ingenieria.unam.mx/wp-content/themes/temperachild/CoordinacionesAcademicas/FQ/MaterialFE/LFE_P01.pdf

	Manual de prácticas del Laboratorio de Química	Código:	MADO-12
		Versión:	05
		Página	23/104
		Sección ISO	8.3
		Fecha de emisión	08 de agosto de 2025
Facultad de Ingeniería		Área/Departamento: Laboratorio de Química	
La impresión de este documento es una copia no controlada			

Práctica 3

EXPERIMENTO DE J. J. THOMSON

	Manual de prácticas del Laboratorio de Química	Código:	MADO-12
		Versión:	05
		Página	24/104
		Sección ISO	8.3
		Fecha de emisión	08 de agosto de 2025
Facultad de Ingeniería		Área/Departamento: Laboratorio de Química	
La impresión de este documento es una copia no controlada			

1. SEGURIDAD EN LA EJECUCIÓN

	Peligro o fuente de energía	Riesgo asociado
1	Aparato de Thomson.	Su manipulación inadecuada daña el equipo. El tubo de rayos catódicos no debe tocarse con las manos, ya que lo daña. No debe quitarse la caja negra que cubre el tubo de rayos catódicos.

2. OBJETIVOS

EL ALUMNADO:

1. Conocerá el principio de funcionamiento del aparato para la determinación de la relación entre la carga y la masa (q/m) de los rayos catódicos, su manejo y las precauciones que deben observarse al utilizarlo.
2. Determinará experimentalmente el valor de la relación q/m de los rayos catódicos empleando dos metodologías, una con voltaje y otra con intensidad de corriente constante.
3. Determinará el error experimental de la relación q/m de los rayos catódicos.


3. INTRODUCCIÓN

En los tubos de Crookes se tiene un gas a presiones muy bajas, el cual al ser sometido a una diferencia de potencial genera rayos luminosos que viajan del cátodo al ánodo del tubo, por lo que reciben el nombre de rayos catódicos. Con la aplicación de un campo eléctrico puede establecerse que estos rayos poseen carga eléctrica negativa; a la misma conclusión puede llegarse mediante la aplicación de un campo magnético y puede demostrarse que los rayos catódicos poseen masa mediante la inclusión de obstáculos en la trayectoria del haz.

J. J. Thomson ideó un experimento para el cálculo de la relación entre la carga y la masa de los rayos catódicos. Realizó muchas variantes en el sistema para confirmar finalmente que los rayos catódicos eran los mismos independientemente del gas, del material de los electrodos, de la composición del tubo y de la fuente de energía empleada.

4. EQUIPO Y MATERIAL

1 aparato marca **DAEDALON** para la medición de la relación q/m de los rayos catódicos, con helio como gas residual.

	Manual de prácticas del Laboratorio de Química	Código:	MADO-12
		Versión:	05
		Página	25/104
		Sección ISO	8.3
		Fecha de emisión	08 de agosto de 2025
Facultad de Ingeniería		Área/Departamento: Laboratorio de Química	
La impresión de este documento es una copia no controlada			

5. DESARROLLO

ACTIVIDAD 1.


La figura docente verificará que el alumnado posea los conocimientos teóricos necesarios para la realización de la práctica y dará las recomendaciones necesarias para el manejo del equipo.


ACTIVIDAD 2.

Encendido y puesta a punto del aparato marca DAEDALON

El procedimiento para el uso de este aparato es sencillo; aun así, deben observarse ciertas precauciones en su manejo, con objeto de no dañar el aparato.

El aparato que se empleará, se muestra en la figura siguiente:



	Manual de prácticas del Laboratorio de Química	Código:	MADO-12
		Versión:	05
		Página	26/104
		Sección ISO	8.3
		Fecha de emisión	08 de agosto de 2025
Facultad de Ingeniería		Área/Departamento: Laboratorio de Química	
La impresión de este documento es una copia no controlada			

Compruebe que el botón de encendido esté en la posición OFF y posteriormente conecte el aparato a la toma de corriente.

Encienda el aparato. La unidad realizará un auto-diagnóstico durante 30 segundos. Cuando el auto-diagnóstico se completa, las pantallas se estabilizan a 0. De esta manera la unidad se encuentra lista para operar.


ACTIVIDAD 3.

Toma de lecturas con voltaje constante.

1. Gire la perilla **VOLTAGE ADJUST** hasta obtener una lectura de 250 [V] en la pantalla correspondiente.
2. Gire la perilla **CURRENT ADJUST** y observe la deflexión circular del haz de rayos catódicos. Cuando la corriente es lo suficientemente alta, el haz formará un círculo completo. El diámetro del haz se determinará empleando la escala que se encuentra dentro del tubo.
3. Determine el valor de la intensidad de corriente necesaria para que el diámetro del haz sea 11 [cm]. Varíe el diámetro del haz modificando la intensidad de corriente en las bobinas de tal manera que pueda completar la tabla siguiente con los valores obtenidos.

Corriente, I [A]	Diámetro, D [cm]	Radio del haz, r = D / 2 [cm]
	11.0	
	10.5	
	10.0	
	9.5	
	9.0	
	8.5	
	8.0	

4. Cuando haya terminado la toma de lecturas, proceda inmediatamente a realizar la actividad siguiente.

	Manual de prácticas del Laboratorio de Química	Código:	MADO-12
		Versión:	05
		Página	27/104
		Sección ISO	8.3
		Fecha de emisión	08 de agosto de 2025
Facultad de Ingeniería		Área/Departamento: Laboratorio de Química	
La impresión de este documento es una copia no controlada			

ACTIVIDAD 4.

Toma de lecturas con corriente constante.

1. Gire la perilla **CURRENT ADJUST** hasta obtener una lectura de 1.2 [A] en la pantalla correspondiente.
2. Gire la perilla **VOLTAGE ADJUST** hasta que el haz de rayos catódicos tenga un diámetro de 11 [cm] y anote la lectura; posteriormente, varíe el diámetro del haz modificando la diferencia de potencial, de tal manera que pueda completar la tabla siguiente con los valores obtenidos.


Voltaje, V [V]	Diámetro, D [cm]	Radio del haz, r = D / 2 [cm]
	11.0	
	10.5	
	10.0	
	9.5	
	9.0	
	8.5	
	8.0	

3. Una vez finalizada la toma de lecturas, puede apagar el aparato sin necesidad de poner en cero las lecturas.

ACTIVIDAD 5.

La figura docente indicará el procedimiento teórico para obtener los resultados de los puntos siguientes:


1. Con los datos obtenidos a diferencia de potencial constante, obtenga:
 - a) La gráfica de $r^2 = f(I^2)$.
 - b) El modelo matemático correspondiente, donde $r^2 = f(I^2)$.
 - c) El valor de la relación q/m de los rayos catódicos.
 - d) El porcentaje de error de la relación q/m de los rayos catódicos.
2. Con los datos obtenidos a corriente eléctrica constante, obtenga:
 - a) La gráfica de $r^2 = f(V)$.
 - b) El modelo matemático correspondiente, donde $r^2 = f(V)$.
 - c) El valor de la relación q/m de los rayos catódicos.
 - d) El porcentaje de error de la relación q/m de los rayos catódicos.

	Manual de prácticas del Laboratorio de Química	Código:	MADO-12
		Versión:	05
		Página	28/104
		Sección ISO	8.3
		Fecha de emisión	08 de agosto de 2025
Facultad de Ingeniería		Área/Departamento: Laboratorio de Química	
La impresión de este documento es una copia no controlada			

NOTA: En el apéndice de esta práctica se encuentra el tratamiento teórico correspondiente a este experimento.

7. BIBLIOGRAFÍA

1. Ander, P., & Sonnessa, A. J. (1992). *Principios de Química*. *
2. Cruz, D., Chamizo, J. A., & Garriz, A. (1991). *Estructura Atómica: un enfoque químico*.
3. Sears, F. W., Zemansky, M. W., Young, H. D., & Freedman R. A. (1988). *Física Universitaria*.


	Manual de prácticas del Laboratorio de Química	Código:	MADO-12
		Versión:	05
		Página	29/104
		Sección ISO	8.3
		Fecha de emisión	08 de agosto de 2025
Facultad de Ingeniería		Área/Departamento: Laboratorio de Química	
La impresión de este documento es una copia no controlada			

CUESTIONARIO PREVIO EXPERIMENTO DE J. J. THOMSON

1. Describa el funcionamiento del tubo de Crookes.
2. ¿En qué consiste la emisión termoiónica?
3. Escriba la expresión de la fuerza magnética que actúa en una carga eléctrica móvil (fuerza de Lorentz).
4. Escriba la expresión de la fuerza centrípeta que actúa sobre una partícula de masa, m , y velocidad, v .
5. ¿Qué potencial, V , se necesita para que una carga eléctrica, q , alcance desde el reposo una velocidad, v ?
6. Investigue qué es una bobina.
7. Indique el sentido de las líneas de campo magnético que genera una bobina a través de la cual fluye una corriente eléctrica.
8. Averigüe el valor de la permeabilidad magnética del vacío.
9. Investigue la expresión del campo magnético en las bobinas de Helmholtz.

BIBLIOGRAFÍA

1. Ander, P., & Sonnessa, A. J. (1992). *Principios de Química*. *
2. Cruz, D., Chamizo, J. A., & Garritz, A. (1991). *Estructura Atómica: un enfoque químico*.
3. Sears, F. W., Zemansky, M. W., Young, H. D., & Freedman R. A. (1988). *Física Universitaria*.

	Manual de prácticas del Laboratorio de Química	Código:	MADO-12
		Versión:	05
		Página	30/104
		Sección ISO	8.3
		Fecha de emisión	08 de agosto de 2025
Facultad de Ingeniería		Área/Departamento: Laboratorio de Química	
La impresión de este documento es una copia no controlada			

APÉNDICE

La intensidad de la fuerza magnética (F_m) que actúa sobre una partícula con carga q que se mueve a una velocidad v en un campo magnético B está definido por la ecuación:

$$F_m = q \cdot v \cdot B \cdot \text{sen}\theta$$

Debido a que el haz de cargas en este experimento es perpendicular al campo magnético, el ángulo es de 90° ; por lo tanto, la ecuación anterior puede escribirse de la forma siguiente:

$$F_m = q \cdot v \cdot B \quad (1)$$

Como los rayos catódicos tienen un movimiento circular dentro del campo magnético, experimentan una fuerza centrípeta cuya expresión matemática es:

$$F_c = m \cdot a_c$$

siendo a_c la aceleración centrípeta

$$a_c = \frac{v^2}{r}$$

por lo tanto,

$$F_c = m \cdot \frac{v^2}{r} \quad (2)$$


En la que m es la masa de los rayos catódicos, v es la velocidad y r es el radio de la trayectoria circular. Debido a que la única fuerza que actúa sobre las cargas se debe al campo magnético, $F_m = F_c$, de tal forma que las ecuaciones (1) y (2) se combinan para dar:

$$q \cdot v \cdot B = m \cdot \frac{v^2}{r}$$

de donde se obtiene:

$$\frac{q}{m} = \frac{v}{B \cdot r} \quad (3)$$

Por lo tanto, para determinar la relación q/m , es necesario conocer la velocidad de los rayos catódicos, el campo magnético de las bobinas de Helmholtz y el radio del haz.

	Manual de prácticas del Laboratorio de Química	Código:	MADO-12
		Versión:	05
		Página	31/104
		Sección ISO	8.3
		Fecha de emisión	08 de agosto de 2025
Facultad de Ingeniería		Área/Departamento: Laboratorio de Química	
La impresión de este documento es una copia no controlada			

Por otro lado, los rayos catódicos se aceleran mediante un potencial V , adquiriendo una energía cinética que es igual a su carga por el potencial de aceleración. Por lo tanto;

$$q \cdot V = \frac{1}{2} \cdot m \cdot v^2$$

Despejando v se obtiene

$$v = \left(\frac{2 \cdot q \cdot V}{m} \right)^{\frac{1}{2}} \quad (4)$$

El campo magnético generado por el par de bobinas de Helmholtz se calcula mediante la fórmula que aparece a continuación y que puede hallarse en cualquier texto elemental de electricidad y magnetismo.

$$B = \frac{[N \cdot \mu_0] I}{\left(\frac{5}{4}\right)^{\frac{3}{2}} \cdot a} \quad (5)$$

Las ecuaciones (4) y (5) se sustituyen en la ecuación (3) para llegar a la expresión matemática siguiente:

$$\frac{q}{m} = \left(\frac{2 \cdot \left(\frac{5}{4}\right)^3 \cdot a^2}{N^2 \cdot \mu_0^2} \right) \cdot V \cdot I^{-2} \cdot r^{-2} \quad (6)$$

donde:

a = Radio de las bobinas de Helmholtz (15 [cm]).

N = Número de espiras en cada bobina (130 vueltas).


I = Intensidad de la corriente eléctrica que circula por las bobinas.

r = Radio del haz de rayos catódicos.

μ_0 = Permeabilidad magnética del vacío = $4\pi \times 10^{-7}$ [T·m·A⁻¹].

Finalmente, los términos de la expresión (6), se pueden reacomodar para obtener las expresiones relacionadas con los experimentos realizados en la práctica.


Así, tenemos la expresión para una diferencia de potencial constante donde $r^2 = f(I^{-2})$:

	Manual de prácticas del Laboratorio de Química	Código:	MADO-12
		Versión:	05
		Página	32/104
		Sección ISO	8.3
		Fecha de emisión	08 de agosto de 2025
Facultad de Ingeniería		Área/Departamento: Laboratorio de Química	
La impresión de este documento es una copia no controlada			

$$r^2 = \left(\frac{2 \cdot \left(\frac{5}{4}\right)^3 \cdot a^2 \cdot V}{N^2 \cdot \mu_0^2 \cdot \left(\frac{q}{m}\right)} \right) \cdot I^{-2} \quad (7)$$


Y la expresión para intensidad de corriente eléctrica constante donde $r^2 = f(V)$:

$$r^2 = \left(\frac{2 \cdot \left(\frac{5}{4}\right)^3 \cdot a^2}{N^2 \cdot \mu_0^2 \cdot I^2 \cdot \left(\frac{q}{m}\right)} \right) \cdot V \quad (8)$$

	Manual de prácticas del Laboratorio de Química	Código:	MADO-12
		Versión:	05
		Página	33/104
		Sección ISO	8.3
		Fecha de emisión	08 de agosto de 2025
Facultad de Ingeniería	Área/Departamento: Laboratorio de Química		
La impresión de este documento es una copia no controlada			

Práctica 4

EL CICLO DEL SULFATO DE COBRE PENTAHIDRATADO

	Manual de prácticas del Laboratorio de Química	Código:	MADO-12
		Versión:	05
		Página	34/104
		Sección ISO	8.3
		Fecha de emisión	08 de agosto de 2025
Facultad de Ingeniería		Área/Departamento: Laboratorio de Química	
La impresión de este documento es una copia no controlada			

1. SEGURIDAD EN LA EJECUCIÓN

	Peligro o fuente de energía	Riesgo asociado
1	Manejo de material de vidrio.	Si es manipulado inadecuadamente puede romperse en fragmentos filosos.
2	Parrilla eléctrica.	Si no se usa con precaución, puede provocar quemaduras en la piel.
3	Manejo de reactivos químicos.	Su manejo requiere lavado de las manos al tener contacto con ellos.

2. OBJETIVOS

EL ALUMNADO:


- Determinará experimentalmente el porcentaje de agua contenido en el sulfato de cobre pentahidratado ($\text{CuSO}_4 \cdot 5\text{H}_2\text{O}$).
- Obtendrá cristales de sulfato de cobre pentahidratado ($\text{CuSO}_4 \cdot 5\text{H}_2\text{O}$) y con base en su forma identificará el tipo de celda unitaria que presentan.

3. INTRODUCCIÓN

El sulfato de cobre, CuSO_4 , es un sólido de color ligeramente gris; sin embargo, el $\text{CuSO}_4 \cdot 5\text{H}_2\text{O}$, es un sólido cristalino de color azul (de ahí que se le llame también vitriolo azul), dicho color azul es debido a la presencia de iones Cu^{2+} , los cuales se encuentran rodeados por moléculas de agua dentro de la propia estructura del cristal.

Con base en la fórmula del $\text{CuSO}_4 \cdot 5\text{H}_2\text{O}$, se puede establecer también que en la estructura cristalina hay cinco moléculas de agua por cada unidad de CuSO_4 ; en otras palabras, si pesamos cierta cantidad de $\text{CuSO}_4 \cdot 5\text{H}_2\text{O}$, una parte de la masa corresponde al CuSO_4 y otra parte al H_2O ; así también, se puede decir que el $\text{CuSO}_4 \cdot 5\text{H}_2\text{O}$, contiene cierto porcentaje de agua que se puede determinar mediante una serie de cálculos sencillos.

La estructura cristalina es una característica que poseen muchas sustancias sólidas (sólidos cristalinos) y que se relaciona con el grado de orden que presentan las partículas

	Manual de prácticas del Laboratorio de Química	Código:	MADO-12
		Versión:	05
		Página	35/104
		Sección ISO	8.3
		Fecha de emisión	08 de agosto de 2025
Facultad de Ingeniería		Área/Departamento: Laboratorio de Química	
La impresión de este documento es una copia no controlada			

que las integran. Este orden queda descrito por una unidad tridimensional simple conocida como celda unitaria que está definida por una serie de parámetros que describen sus dimensiones. Existen siete celdas unitarias que generan 14 sistemas cristalinos conocidos como redes de Bravais que son arreglos tridimensionales nanoscópicos.

En el proceso de cristalización, la formación de un monocristal depende de diferentes factores y uno de los más importantes es la solubilidad del compuesto que se desea cristalizar, en el disolvente que se desea emplear.

4. MATERIAL

- a) 1 pipeta graduada de 5 [ml].
- b) 1 propipeta.
- c) 1 vaso de precipitados de 50[ml].
- d) 1 pinzas para cristales.
- e) 1 espátula de doble punta.
- f) 1 piseta.
- g) 1 balanza semianalítica.
- h) 1 parrilla eléctrica.
- i) 1 pinzas para tubos de ensayo.
- j) 1 lupa.

5. REACTIVOS

- 1) Sulfato de cobre pentahidratado, $\text{CuSO}_4 \cdot 5\text{H}_2\text{O}$, triturado.
- 2) Agua destilada

6. DESARROLLO


ACTIVIDAD 1.

La figura docente verificará que el alumnado posea los conocimientos teóricos necesarios para la realización de la práctica y explicará los cuidados que deben tenerse en el manejo del material, equipo y las sustancias químicas que se utilizarán.

ACTIVIDAD 2.

Determinación del contenido de agua en los cristales de $\text{CuSO}_4 \cdot 5\text{H}_2\text{O}$

1. Pese, con ayuda de la balanza semianalítica, un vaso de precipitados de 50 [ml] y anote su masa, ésta será la masa del vaso (m_v).
2. Pese en el vaso anterior, 2 [g] de $\text{CuSO}_4 \cdot 5\text{H}_2\text{O}$ ($m_{v + \text{CuSO}_4 \cdot 5\text{H}_2\text{O}}$).

	Manual de prácticas del Laboratorio de Química	Código:	MADO-12
		Versión:	05
		Página	36/104
		Sección ISO	8.3
		Fecha de emisión	08 de agosto de 2025
Facultad de Ingeniería		Área/Departamento: Laboratorio de Química	
La impresión de este documento es una copia no controlada			

3. Coloque sobre la parrilla el vaso con el $\text{CuSO}_4 \cdot 5\text{H}_2\text{O}$, tápelo con un pedazo de papel, gire la perilla de calentamiento a la mitad y manténgalo así hasta que los cristales pierdan su color azul intenso; en ese momento se suspende el calentamiento, pero no se retira de la parrilla hasta que se obtenga el CuSO_4 anhidro, que presenta un color ligeramente gris. Anote sus observaciones.




4. Con ayuda de las pinzas para tubo de ensayo, retire el vaso de la parrilla y colóquelo sobre la superficie metálica de la tarja para que alcance la temperatura ambiente.
5. Pese el vaso con ayuda de la balanza para obtener la masa del vaso más el sulfato de cobre anhidro: $m_{\text{vaso}+\text{CuSO}_4}$. Determine por diferencia la masa de CuSO_4 anhidro (blanco): m_{CuSO_4} , para ello debe restar la masa del vaso con el sulfato de cobre anhidro, $m_{\text{vaso}+\text{CuSO}_4}$ menos la masa del vaso vacío, m_{vaso} :

$$m_{\text{CuSO}_4} = m_{\text{vaso}+\text{CuSO}_4} - m_{\text{vaso}}$$

6. También por diferencia, se determina la cantidad de agua ($m_{\text{H}_2\text{O}}$) que había en los gramos iniciales de $\text{CuSO}_4 \cdot 5\text{H}_2\text{O}$. Complete la tabla siguiente.

	m_{vaso} [g]	$m_{\text{vaso}+\text{CuSO}_4}$ [g]	m_{CuSO_4} [g]	$m_{\text{H}_2\text{O}}$ [g]	[%] m/m de agua
Vaso					

	Manual de prácticas del Laboratorio de Química	Código:	MADO-12
		Versión:	05
		Página	37/104
		Sección ISO	8.3
		Fecha de emisión	08 de agosto de 2025
Facultad de Ingeniería		Área/Departamento: Laboratorio de Química	
La impresión de este documento es una copia no controlada			


ACTIVIDAD 3.

Obtención de cristales de $\text{CuSO}_4 \cdot 5\text{H}_2\text{O}$

1. Con ayuda de la pipeta, adicione 3.5 [ml] de agua destilada en el vaso. Caliente con la perilla a medio giro y agite constantemente con movimientos circulares el vaso sobre la parrilla (no utilice la espátula como agitador), hasta la total disolución del sólido (evite la evaporación del disolvente). Posteriormente, déjelo en la superficie metálica de la tarja, procurando no moverlo en adelante. Anote sus observaciones.



2. Con ayuda de la lupa, identifique el tipo de cristales que se obtienen.




MANEJO DE RESIDUOS


La disolución sobresaturada y los cristales obtenidos se verterán en el frasco etiquetado como RESIDUOS DE $\text{CuSO}_4 \cdot 5\text{H}_2\text{O}$. Si los cristales de su vaso quedan adheridos a las paredes, retírelos con ayuda de una espátula y viértalos en el recipiente para residuos.

7. BIBLIOGRAFÍA

1. Mortimer, C. E. (1983). *Química*.
2. Russell, J. B., & Larena, A. (1988). *Química*.

	Manual de prácticas del Laboratorio de Química	Código:	MADO-12
		Versión:	05
		Página	38/104
		Sección ISO	8.3
		Fecha de emisión	08 de agosto de 2025
Facultad de Ingeniería		Área/Departamento: Laboratorio de Química	
La impresión de este documento es una copia no controlada			

3. Chang, R., & Goldsby, K. A. (2013). *Química*.
4. Brown, T. L., Le May, H. E., & Burnsten, B. E. (2014). *Química: la ciencia central*.
5. Kotz, J. C., Treichel, P. M., & Weaver, G. C. (1999). *Química y reactividad química*.

	Manual de prácticas del Laboratorio de Química	Código:	MADO-12
		Versión:	05
		Página	39/104
		Sección ISO	8.3
		Fecha de emisión	08 de agosto de 2025
Facultad de Ingeniería		Área/Departamento: Laboratorio de Química	
La impresión de este documento es una copia no controlada			


CUESTIONARIO PREVIO

EL CICLO DEL SULFATO DE COBRE PENTAHIDRATADO

1. Establezca las diferencias entre cristalización, precipitación, sedimentación y deposición.
2. ¿Cuáles son las principales celdas unitarias de los cristales?
3. ¿Qué tipo de celda unitaria presenta el sulfato de cobre pentahidratado?
4. Defina los términos siguientes:
 - a) Solubilidad
 - b) Disolución insaturada
 - c) Disolución saturada
 - d) Disolución sobresaturada
5. ¿Qué factores afectan al proceso de cristalización? Justifique su respuesta.


BIBLIOGRAFÍA

1. Mortimer, C. E. (1983). *Química*.
2. Russell, J. B., & Larena, A. (1988). *Química*.
3. Chang, R., & Goldsby, K. A. (2013). *Química*.
4. Brown, T. L., Le May, H. E., & Burnsten, B. E. (2014). *Química: la ciencia central*.
5. Kotz, J. C., Treichel, P. M., & Weaver, G. C. (1999). *Química y reactividad química*.

	Manual de prácticas del Laboratorio de Química	Código:	MADO-12
		Versión:	05
		Página	40/104
		Sección ISO	8.3
		Fecha de emisión	08 de agosto de 2025
Facultad de Ingeniería		Área/Departamento: Laboratorio de Química	
La impresión de este documento es una copia no controlada			

Práctica 5

PREPARACIÓN Y CONDUCTIVIDAD DE DISOLUCIONES

	Manual de prácticas del Laboratorio de Química	Código:	MADO-12
		Versión:	05
		Página	41/104
		Sección ISO	8.3
		Fecha de emisión	08 de agosto de 2025
Facultad de Ingeniería		Área/Departamento: Laboratorio de Química	
La impresión de este documento es una copia no controlada			

1. SEGURIDAD EN LA EJECUCIÓN

	Peligro o fuente de energía	Riesgo asociado
1	Manejo de material de vidrio.	Si es manipulado inadecuadamente puede romperse en fragmentos filosos.
2	Sustancias químicas.	Su manipulación requiere lavarse las manos al finalizar la práctica.

2. OBJETIVOS

EL ALUMNADO:


1. Preparará disoluciones de diferentes concentraciones mediante el manejo del material adecuado.
2. Medirá la conductividad de las disoluciones preparadas utilizando el equipo conveniente.
3. Clasificará los solutos empleados como electrólitos y no electrólitos.
4. Comprenderá la relación que hay entre la concentración de un electrólito y su conductividad.

3. INTRODUCCIÓN

Cuando los reactivos están en la fase líquida es relativamente fácil el control de las reacciones químicas. Si las sustancias de interés existen en la fase sólida o en la gaseosa se procura incorporarlas a la fase líquida, mezclándolas con otra sustancia que se encuentre en esta fase; por tal razón, se introduce el concepto de disolución. Una disolución es una mezcla homogénea de dos o más sustancias. Frecuentemente, las disoluciones consisten en una sustancia, el soluto, disuelto en otra sustancia, el disolvente, que por lo general es agua.

La concentración de las disoluciones se expresa en función de la cantidad de soluto disuelto en una masa o volumen determinado de disolución o de disolvente; por lo que, existen varias formas de expresar la concentración. Algunas unidades de concentración comúnmente empleadas son la molaridad, la normalidad, la molalidad y los porcentajes en masa o en volumen.

Se sabe que una disolución que contenga un electrólito será capaz de transportar la corriente eléctrica. A este fenómeno se le llama conducción electrolítica. Los iones del electrólito deben moverse libremente para que se presente la conducción electrolítica.

	Manual de prácticas del Laboratorio de Química	Código:	MADO-12
		Versión:	05
		Página	42/104
		Sección ISO	8.3
		Fecha de emisión	08 de agosto de 2025
Facultad de Ingeniería		Área/Departamento: Laboratorio de Química	
La impresión de este documento es una copia no controlada			

La naturaleza iónica de un compuesto puede determinarse experimentalmente observando qué tan eficazmente transporta la corriente eléctrica una disolución acuosa del mismo.


Ahora bien, las propiedades de los compuestos iónicos y covalentes reflejan la manera en que los átomos interactúan entre sí. Una de estas propiedades es la conductividad electrolítica de los compuestos en disolución acuosa, la cual se estimará con cada una de las disoluciones que el estudiante prepare. Además, se observará la influencia de la concentración de las disoluciones en la conductividad.

4. EQUIPO Y MATERIAL

- a) 2 matraces volumétricos de 100 [ml].
- b) 1 matraz volumétrico de 50 [ml].
- c) 1 matraz volumétrico de 25 [ml].
- d) 3 vasos de precipitados de 100 [ml].
- e) 1 vaso de precipitados de 30 [ml]
- f) 1 pipeta volumétrica de 10 [ml].
- a) 1 embudo de vidrio de filtración rápida
- b) 1 piseta.
- c) 1 espátula.
- d) 1 varilla de vidrio.
- e) 1 conductímetro.
- f) 1 propipeta.
- g) 1 balanza semianalítica.

5. REACTIVOS

- 1) Agua destilada.
- 2) Acetato de sodio, CH_3COONa .
- 3) Bicarbonato de sodio, NaHCO_3 .
- 4) Nitrato de potasio, KNO_3 .
- 5) Sulfato de magnesio heptahidratado, $\text{MgSO}_4 \cdot 7\text{H}_2\text{O}$.
- 6) Sulfato de cobre (II) pentahidratado, $\text{CuSO}_4 \cdot 5\text{H}_2\text{O}$.
- 7) Sacarosa, $\text{C}_{12}\text{H}_{22}\text{O}_{11}$.

	Manual de prácticas del Laboratorio de Química	Código:	MADO-12
		Versión:	05
		Página	43/104
		Sección ISO	8.3
		Fecha de emisión	08 de agosto de 2025
Facultad de Ingeniería		Área/Departamento: Laboratorio de Química	
La impresión de este documento es una copia no controlada			

6. DESARROLLO

ACTIVIDAD 1

La figura docente verificará que los estudiantes posean los conocimientos teóricos necesarios para la realización de la práctica y dará las recomendaciones necesarias para el manejo del material, equipo y sustancias químicas que se utilizarán.

ACTIVIDAD 2

Prepare cuatro disoluciones de diferentes concentraciones, utilice el soluto asignado por la figura docente, de acuerdo con las indicaciones siguientes:


Preparación de la disolución madre

1. Calcule la cantidad necesaria, en gramos del soluto, para preparar 100 [ml] de una disolución 0.05 [M].
2. Pese con cuidado, en un vaso de precipitados, los gramos del soluto que calculó en el paso anterior y disuélvalos en 50 [ml] de agua destilada.
3. Trasvase la disolución preparada a un matraz volumétrico de 100 [ml] con ayuda del embudo. Lave, al menos tres veces, con la mínima cantidad de agua tanto el vaso como el embudo auxiliándose de una piseta. Asegúrese de no dejar nada de reactivo en el vaso de precipitados.
4. Añada agua destilada hasta la marca del aforo del matraz, tápelo y agítelo para mezclar perfectamente la disolución. La disolución así preparada es la disolución madre.
5. Trasvase la disolución a un vaso de precipitados previamente etiquetado.

ACTIVIDAD 3.

Preparación de disoluciones diluidas.

1. De la disolución madre tome 10 [ml] con la pipeta volumétrica y viértalos en el otro matraz volumétrico de 100 [ml].
2. Añada agua hasta la marca del aforo del matraz, tápelo y agítelo para mezclar perfectamente la disolución. Esta es la disolución 1.
3. Repita los pasos 1 y 2 de esta actividad para preparar las disoluciones 2 y 3. Use los matraces volumétricos de: 50 y 25 [ml] respectivamente.
La disolución 2 será la de 50 [ml] mientras que la disolución 3, será la de 25 [ml].

	Manual de prácticas del Laboratorio de Química	Código:	MADO-12
		Versión:	05
		Página	44/104
		Sección ISO	8.3
		Fecha de emisión	08 de agosto de 2025
Facultad de Ingeniería		Área/Departamento: Laboratorio de Química	
La impresión de este documento es una copia no controlada			

- Vierta cada una de las tres disoluciones preparadas en esta actividad en vasos de precipitados etiquetados. Tenga mucho cuidado de no mezclar las disoluciones, ya que se producirían resultados erróneos.
- Calcule la concentración molar de las disoluciones 1, 2 y 3. Recuerde que la concentración molar de la disolución madre es 0.05 [M].
Anote su resultado en la siguiente tabla:

Tabla 1. Concentración molar de las disoluciones diluidas.

Disoluciones diluidas	Disolución 1 100 [ml]	Disolución 2 50 [ml]	Disolución 3 25 [ml]
	Concentración Molar = _____ [M]	Concentración Molar = _____ [M]	Concentración Molar = _____ [M]


ACTIVIDAD 4

Toma de lecturas

El alumnado llevará al cabo los pasos siguientes para determinar la conductividad de las disoluciones 1, 2 y 3 únicamente. **No se determinará la conductividad de la disolución madre.** Es importante que haga las mediciones comenzando de la disolución más diluida a la más concentrada.

- Sin encender el conductímetro, sumergirá el electrodo en la disolución y lo moverá para desalojar las burbujas de aire que hayan quedado atrapadas, asegurando que el nivel del líquido se encuentre arriba de los orificios y posteriormente encenderá el equipo.
- Seleccionará la escala adecuada siguiendo las instrucciones de la figura docente, tomará la lectura de conductividad en [$\mu\text{S}/\text{cm}$] y registrará sus resultados en la tabla



	Manual de prácticas del Laboratorio de Química	Código:	MADO-12
		Versión:	05
		Página	45/104
		Sección ISO	8.3
		Fecha de emisión	08 de agosto de 2025
Facultad de Ingeniería		Área/Departamento: Laboratorio de Química	
La impresión de este documento es una copia no controlada			

En el conductímetro CONDUCTRONIC (mostrado en la imagen anterior) la lectura es directa en las escalas de 200 y 2K, pero en la escala de 20K, debe multiplicar el valor que indique la pantalla por 1000.

En el conductímetro LEYBOLD DIDACTIC la lectura en la escala de 200 [μS] es directa, pero en las escalas de 2 [μS] y 20 [μS] debe multiplicar el valor que indique la pantalla por 1000.


NOTA: Si el conductímetro presenta variaciones importantes en la lectura, no funciona o indica que la batería está baja, reporte la falla con el personal del laboratorio (laboratorista, ayudantes o responsable del laboratorio). No retire la batería del equipo ni lo encienda cuando la celda esté fuera de la disolución.

- c) Después de cada medición apagará el equipo antes de retirar el electrodo de la disolución y al finalizar todas las mediciones enjuagará el electrodo con agua destilada.

NOTA: Cada brigada determinará la conductividad de las disoluciones que ha preparado a partir del soluto que le fue asignado por la figura docente. Posteriormente los resultados se compartirán entre las brigadas para llenar la tabla 2.

Tabla 2. Conductividad experimental de las disoluciones.

Disoluciones	Disolución 1 100 [ml] Concentración Molar = _____	Disolución 2 50 [ml] Concentración Molar = _____	Disolución 3 25 [ml] Concentración Molar = _____
	Conductividad [$\mu\text{S}/\text{cm}$]	Conductividad [$\mu\text{S}/\text{cm}$]	Conductividad [$\mu\text{S}/\text{cm}$]
CH_3COONa (ac)			
NaHCO_3 (ac)			
KNO_3 (ac)			
$\text{MgSO}_4 \cdot 7\text{H}_2\text{O}$ (ac)			
$\text{CuSO}_4 \cdot 5\text{H}_2\text{O}$ (ac)			
$\text{C}_{12}\text{H}_{22}\text{O}_{11}$ (ac)			

	Manual de prácticas del Laboratorio de Química	Código:	MADO-12
		Versión:	05
		Página	46/104
		Sección ISO	8.3
		Fecha de emisión	08 de agosto de 2025
Facultad de Ingeniería		Área/Departamento: Laboratorio de Química	
La impresión de este documento es una copia no controlada			

MANEJO DE RESIDUOS

Viertan la disolución preparada a la tarja.


Si la brigada usó $\text{CuSO}_4 \cdot 5\text{H}_2\text{O}$ como soluto vierta la disolución madre en el vaso de precipitados etiquetado como RESIDUOS DE $\text{CuSO}_4 \cdot 5\text{H}_2\text{O}$. Las disoluciones diluidas de este soluto viértanlas a la tarja.

ACTIVIDAD 5

- Con los datos de la tabla 2, trace una gráfica de la conductividad [$\mu\text{S} \cdot \text{cm}^{-1}$] (ordenadas) en función de la concentración molar [M] (abscisas) **para cada uno de los solutos**.
¿Cuál es el comportamiento observado de la conductividad respecto a la concentración en cada gráfica?
- Establezca los modelos matemáticos correspondientes a cada soluto de la gráfica obtenida en el punto anterior.
- Con base en el modelo matemático obtenido para el soluto asignado por la figura docente, infiera lo siguiente:
 - Si se toman 10 [ml] de la disolución madre y se lleva a un volumen de 250 [ml]:
 - ¿Cuál será la conductividad de la disolución preparada?
 - ¿Cuántos gramos de soluto hay en la disolución preparada?
 - ¿Qué cantidad de soluto se debe de emplear para preparar una disolución de 100 [ml] que presente una conductividad de $16500 \mu\text{S} \cdot \text{cm}^{-1}$? ¿Será posible realizarlo experimentalmente? Explique su respuesta.

7. BIBLIOGRAFÍA

- Mortimer, C. E. (1983). *Química*.
- Russell, J. B., & Larena, A. (1988). *Química*.
- Chang, R., & Goldsby, K. A. (2013). *Química*.
- Brown, T. L., Le May, H. E., & Burnsten, B. E. (2014). *Química: la ciencia central*.

	Manual de prácticas del Laboratorio de Química	Código:	MADO-12
		Versión:	05
		Página	47/104
		Sección ISO	8.3
		Fecha de emisión	08 de agosto de 2025
Facultad de Ingeniería		Área/Departamento: Laboratorio de Química	
La impresión de este documento es una copia no controlada			

CUESTIONARIO PREVIO PREPARACIÓN Y CONDUCTIVIDAD DE DISOLUCIONES

1. Defina concentración molar.
2. ¿Cómo influye el agua de hidratación presente en algunos sólidos, al calcular la concentración o la masa de soluto en una disolución?
3. ¿Cómo afecta la pureza del reactivo químico en la preparación de las disoluciones?
4. Defina: enlace químico, enlace iónico, enlace covalente y enlace metálico
5. Indique en qué sustancias se presenta de manera preferente los siguientes enlaces: el enlace iónico, el enlace covalente y el enlace metálico.

6. Mencione las propiedades físicas más representativas de los compuestos iónicos y de los compuestos moleculares. Explique, cuál o cuáles de estas propiedades le permiten distinguir a un compuesto iónico de un compuesto molecular.

7. Investigue los términos siguientes: electrólito fuerte, electrólito débil, no electrólito y conducción electrolítica.

8. Investigue de qué parámetros depende la resistencia eléctrica.


9. Investigue las unidades, en el S.I., de la resistencia eléctrica y de su inversa, la conductividad eléctrica.

10. ¿Qué sucede con la conductividad del agua destilada si se le agregan unas gotas de ácido sulfúrico?

11. ¿El agua de la llave conduce la electricidad? Explique.


BIBLIOGRAFÍA

1. Mortimer, C. E. (1983). *Química*.
2. Russell, J. B., & Larena, A. (1988). *Química*.
3. Chang, R., & Goldsby, K. A. (2013). *Química*.
4. Brown, T. L., Le May, H. E., & Burnsten, B. E. (2014). *Química: la ciencia central*.

	Manual de prácticas del Laboratorio de Química	Código:	MADO-12
		Versión:	05
		Página	48/104
		Sección ISO	8.3
		Fecha de emisión	08 de agosto de 2025
Facultad de Ingeniería		Área/Departamento: Laboratorio de Química	
La impresión de este documento es una copia no controlada			


Práctica 6

CÁLCULO DEL RENDIMIENTO PORCENTUAL DE UNA REACCIÓN QUÍMICA

	Manual de prácticas del Laboratorio de Química	Código:	MADO-12
		Versión:	05
		Página	49/104
		Sección ISO	8.3
		Fecha de emisión	08 de agosto de 2025
Facultad de Ingeniería		Área/Departamento: Laboratorio de Química	
La impresión de este documento es una copia no controlada			

1. SEGURIDAD EN LA EJECUCIÓN

	Peligro o fuente de energía	Riesgo asociado
1	Manejo de material de vidrio.	Si es manipulado inadecuadamente puede romperse en fragmentos filosos.
2	Termómetro.	La densidad del mercurio puede romper la ampolla donde está contenido. La manipulación inapropiada puede romper el instrumento, lo que genera fragmentos punzo-cortantes e intoxicación.
3	Sustancias químicas.	Su manipulación requiere lavarse las manos al finalizar la práctica, debido a que algunas sustancias químicas son corrosivas. En caso de algún derrame, avise inmediatamente a la figura docente.
4	HCl concentrado	El HCl concentrado es una sustancia corrosiva que debe manejarse con precaución ya que puede causar desde irritación cutánea hasta quemaduras graves. Es importante evitar el contacto con los ojos ya que causa lesiones oculares. Asimismo, se debe evitar su inhalación directa ya que puede causar irritación de las vías respiratorias. Se recomienda el uso de guantes al manipularlo.
5	Jeringa.	Su manipulación requiere el uso de guantes y lentes de seguridad, ya que contiene ácido clorhídrico. Debe manipularse de manera cuidadosa ya que tiene una aguja.

	Manual de prácticas del Laboratorio de Química	Código:	MADO-12
		Versión:	05
		Página	50/104
		Sección ISO	8.3
		Fecha de emisión	08 de agosto de 2025
Facultad de Ingeniería		Área/Departamento: Laboratorio de Química	
La impresión de este documento es una copia no controlada			

2. OBJETIVOS

EL ALUMNADO:

1. Conocerá las relaciones estequiométricas que existen entre reactivos y productos en una reacción química.
2. Comprenderá el concepto de reactivo limitante y reactivo en exceso en una reacción química.
3. Calculará las cantidades de reactivos que reaccionaron para producir una determinada cantidad de producto.
4. Determinará el rendimiento porcentual de una reacción química.

3. INTRODUCCIÓN


En una gran cantidad de procesos químicos industriales es muy importante conocer la cantidad real de productos obtenidos, así como la cantidad teórica que se podría obtener a partir de cierta cantidad de reactivos. La estequiometría es una parte de la química que se encarga del estudio de éste y otros aspectos.

Cuando se efectúa una reacción química, es frecuente que los reactivos que se mezclan no estén presentes en las cantidades estequiométricas, esto es, en las proporciones indicadas en la ecuación química balanceada y esto da lugar a que uno de los reactivos se consuma primero. A este reactivo, se le conoce como **reactivo limitante** y la razón por la que se consume en primer término obedece a que se encuentra en **menor cantidad estequiométrica** respecto a los otros reactivos. Por su parte, el calificativo "limitante" surge como descripción de lo que provoca su ausencia, ya que una vez que se ha consumido, la reacción química no puede continuar y se limita la cantidad de productos que se puede obtener. Los otros reactivos, presentes en cantidades mayores que aquellas requeridas para reaccionar con la cantidad del reactivo limitante presente, se llaman reactivos en exceso.

Para evaluar la eficiencia de una reacción se calcula el **rendimiento porcentual**, un parámetro que describe la proporción del rendimiento real con respecto al rendimiento teórico y se define como:

$$\text{Rendimiento porcentual} = \frac{\text{Rendimiento real}}{\text{Rendimiento teórico}} \times 100$$

El **Rendimiento real** representa la cantidad de sustancia, la masa o el volumen que se obtiene experimentalmente de uno de los productos de la reacción, mientras que el **Rendimiento teórico** es la cantidad de sustancia, la masa o el volumen que se debe obtener del mismo producto, de acuerdo con las relaciones estequiométricas indicadas en la ecuación química y la identificación de un reactivo limitante.

	Manual de prácticas del Laboratorio de Química	Código:	MADO-12
		Versión:	05
		Página	51/104
		Sección ISO	8.3
		Fecha de emisión	08 de agosto de 2025
Facultad de Ingeniería		Área/Departamento: Laboratorio de Química	
La impresión de este documento es una copia no controlada			

En esta práctica se llevará a cabo la obtención de un gas a partir de una reacción química. La cantidad de gas obtenida experimentalmente (rendimiento real) se usará para calcular el rendimiento porcentual de la reacción al compararse con la cantidad de gas que se debería obtener con base en las relaciones estequiométricas pertinentes.

4. MATERIAL

- a) 1 balanza semianalítica.
- b) 1 probeta de 100 [ml].
- c) 1 tubo de ensayo con septum de hule.
- d) 2 soportes universales.
- e) 1 anillo metálico.
- f) 1 pinza de tres dedos con sujetador.
- g) 1 jeringa de plástico de 3 [ml] con aguja.
- h) 1 manguera de hule con aguja adaptada.
- i) 1 recipiente de plástico.
- j) 1 vaso de precipitados de 100 [ml].
- k) 1 espátula con mango de madera.
- l) 1 termómetro de -10 a 120 [°C]

5. REACTIVOS

- 1) Cinc metálico granular, Zn.
- 2) Disolución comercial al 37.6 [%] en masa de ácido clorhídrico, HCl, y densidad de 1.19 [g/cm³].

6. DESARROLLO


ACTIVIDAD 1.

La figura docente verificará que el alumnado posea los conocimientos teóricos necesarios para la realización de la práctica y explicará los cuidados que deben tenerse en el manejo de las sustancias químicas que se emplearán.


ACTIVIDAD 2.

Obtención de hidrógeno.


1. Para llevar a cabo la reacción química siguiente:



Coloque dentro del tubo de ensayo 0.10 [g] de cinc metálico, tape el tubo con el septum e inserte la aguja unida a la manguera de hule. Introduzca el otro extremo de la


	Manual de prácticas del Laboratorio de Química	Código:	MADO-12
		Versión:	05
		Página	52/104
		Sección ISO	8.3
		Fecha de emisión	08 de agosto de 2025
Facultad de Ingeniería		Área/Departamento: Laboratorio de Química	
La impresión de este documento es una copia no controlada			

manguera en la boca de la probeta, la cual deberá estar llena de agua y en posición invertida dentro del recipiente de plástico con agua como se muestra en la imagen. Evite que el interior de la probeta quede con aire.

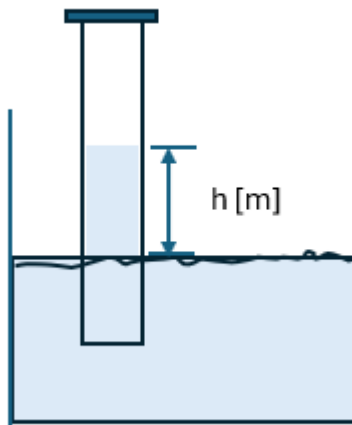


- Adicione 0.5 [ml] de la disolución comercial de ácido clorhídrico (HCl al 37% m/m y densidad 1.19 [g/cm³]) al tubo de ensayo, utilice la jeringa, con la cual perforará el septum de hule para adicionar el ácido. Realice esta operación con cuidado, si tiene dudas solicite el apoyo del personal docente.



	Manual de prácticas del Laboratorio de Química	Código:	MADO-12
		Versión:	05
		Página	53/104
		Sección ISO	8.3
		Fecha de emisión	08 de agosto de 2025
Facultad de Ingeniería		Área/Departamento: Laboratorio de Química	
La impresión de este documento es una copia no controlada			

3. Mida y anote el volumen de hidrógeno gaseoso recolectado en la probeta durante su experimento.
4. Mida la temperatura del agua, esta será la temperatura de recolección del gas.
5. Mida la altura de la columna de agua que quedó al interior de la probeta al terminar la recolección del gas.




6. Calcule el **rendimiento experimental** de la reacción como la **cantidad de sustancia de hidrógeno (H_2)** que se obtuvo **experimentalmente**: $n_{H_2,exp}$.

Use la ecuación de Clapeyron-Mendeleiev (Ecuación del gas ideal).

Es importante que en su cálculo considere la presión de H_2 y no la presión atmosférica de forma directa. Revise el apéndice de esta práctica para conocer cómo se obtiene la presión de H_2 .

7. Realice los cálculos necesarios para obtener el **rendimiento teórico** como la **cantidad de sustancia de hidrógeno (H_2)** que se debe obtener de acuerdo con las relaciones estequiométricas establecidas en la ecuación química. Para ello haga lo siguiente:
 - a. Calcule la cantidad de sustancia de cada reactivo.
 - b. Identifique al reactivo limitante
 - c. A partir del reactivo limitante obtenga la cantidad de sustancia de hidrógeno (H_2), esto representa el rendimiento teórico.
8. Calcule el rendimiento porcentual.

	Manual de prácticas del Laboratorio de Química	Código:	MADO-12
		Versión:	05
		Página	54/104
		Sección ISO	8.3
		Fecha de emisión	08 de agosto de 2025
Facultad de Ingeniería		Área/Departamento: Laboratorio de Química	
La impresión de este documento es una copia no controlada			

$$\text{Rendimiento porcentual} = \frac{\text{Rendimiento real}}{\text{Rendimiento teórico}} \times 100$$

MANEJO DE RESIDUOS


El líquido que queda en el tubo de ensayo al término de la reacción se vierte en el frasco etiquetado como RESIDUOS DE OBTENCIÓN DE HIDRÓGENO.

Limpieza de la jeringa

Enjuague la jeringa un par de veces en el líquido del frasco etiquetado como RESIDUOS DE OBTENCIÓN DE HIDRÓGENO, para ello extraiga y libere el líquido del frasco. Posteriormente, enjuague con agua un par de veces más, seque con cuidado la aguja con ayuda de un trozo de papel y tápela. Así dejará la jeringa limpia para el próximo grupo que la ocupará.

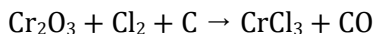
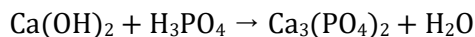
7. BIBLIOGRAFÍA

1. Russell, J. B., & Larena, A. (1988). *Química*.
2. Chang, R., & Goldsby, K. A. (2013). *Química*.
3. Brown, T. L., Le May, H. E., & Burnsten, B. E. (2014). *Química: la ciencia central*.

	Manual de prácticas del Laboratorio de Química	Código:	MADO-12
		Versión:	05
		Página	55/104
		Sección ISO	8.3
		Fecha de emisión	08 de agosto de 2025
Facultad de Ingeniería		Área/Departamento: Laboratorio de Química	
La impresión de este documento es una copia no controlada			

CUESTIONARIO PREVIO CÁLCULO DEL RENDIMIENTO PORCENTUAL DE UNA REACCIÓN QUÍMICA


1. Balancee las ecuaciones químicas siguientes:



2. Establezca las relaciones estequiométricas en gramos, en moles y en entidades fundamentales para las reacciones anteriores, y demuestre que se cumple la ley de la conservación de la masa.
3. ¿Cómo determina cuál es el reactivo limitante en una reacción química? Dé un ejemplo.

BIBLIOGRAFÍA

1. Russell, J. B., & Larena, A. (1988). *Química*.
2. Chang, R., & Goldsby, K. A. (2013). *Química*.
3. Brown, T. L., Le May, H. E., & Burnsten, B. E. (2014). *Química: la ciencia central*.

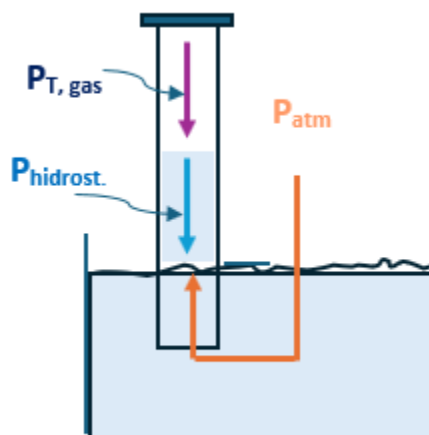
	Manual de prácticas del Laboratorio de Química	Código:	MADO-12
		Versión:	05
		Página	56/104
		Sección ISO	8.3
		Fecha de emisión	08 de agosto de 2025
Facultad de Ingeniería		Área/Departamento: Laboratorio de Química	
La impresión de este documento es una copia no controlada			

APÉNDICE

Cálculo de la presión de H₂.

En el experimento, el H₂ se recolecta sobre agua y esta operación tiene como consecuencia que la presión del gas recolectado no sea igual a la de la presión atmosférica, debido a dos razones:

- 1) Al ser recolectado sobre agua, el H₂ se mezcla con vapor de agua. Tenemos por lo tanto una mezcla de dos gases: H₂ y H₂O, cuya suma de presiones nos da la presión total del gas recolectado: $P_{T, gas}$.
- 2) Al terminar la evolución del gas queda una columna de agua remanente dentro de la probeta cuya presencia genera una presión hidrostática: $P_{hidrost.}$




Estos dos aspectos provocan que el balance de presiones del sistema quede descrito por la siguiente expresión:

$$P_{atm} = P_{T,gas} + P_{hidrost.}$$

En donde, la presión total del gas recolectado se calcula como la suma de las presiones de cada gas, de acuerdo con la ley de presiones de Dalton:

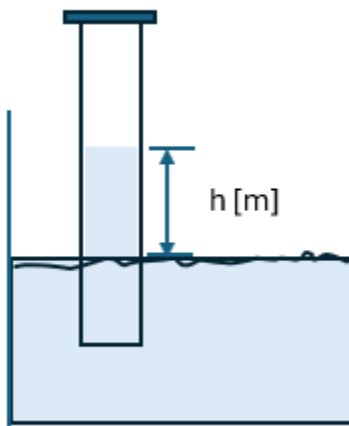
$$P_{T,gas} = P_{H_2} + P_{V(H_2O)}$$

	Manual de prácticas del Laboratorio de Química	Código:	MADO-12
		Versión:	05
		Página	57/104
		Sección ISO	8.3
		Fecha de emisión	08 de agosto de 2025
Facultad de Ingeniería		Área/Departamento: Laboratorio de Química	
La impresión de este documento es una copia no controlada			

Mientras que la presión hidrostática se obtiene con:

$$P_{hidrost.} = \rho g h$$

En donde $\rho = 1000 \text{ [kg/m}^3\text{]}$ y $g = 9.78 \text{ [m/s}^2\text{]}$. Asimismo, h representa la altura de la columna de agua, expresada en metros y es un parámetro que se debe medir durante el experimento.



Así, tenemos:


$$P_{hidrost.} = 1000 \left[\frac{kg}{m^3} \right] \cdot 9.78 \left[\frac{m}{s^2} \right] \cdot h$$

Si la presión atmosférica en la Cd. De México es de $77\,993.59 \text{ [Pa]}$ entonces nuestro balance de presiones:

$$P_{atm} = P_{H_2} + P_{V(H_2O)} + P_{hidrost.}$$

queda descrito como:

$$77\,993.59 \text{ [Pa]} = P_{H_2} + P_{V(H_2O)} + \left(1000 \left[\frac{kg}{m^3} \right] \cdot 9.78 \left[\frac{m}{s^2} \right] \cdot h \right)$$

	Manual de prácticas del Laboratorio de Química	Código:	MADO-12
		Versión:	05
		Página	58/104
		Sección ISO	8.3
		Fecha de emisión	08 de agosto de 2025
Facultad de Ingeniería		Área/Departamento: Laboratorio de Química	
La impresión de este documento es una copia no controlada			

Al despejar la presión de H₂: P_{H_2} , tenemos:

$$P_{H_2} = 77\,993.59 \text{ [Pa]} - P_{V(H_2O)} - \left(1000 \frac{\text{kg}}{\text{m}^3} \cdot 9.78 \frac{\text{m}}{\text{s}^2} \cdot h \right)$$

De esta expresión, nos falta conocer: h y la presión de vapor del agua: $P_{V(H_2O)}$.

Como hemos visto, h se obtiene al terminar el experimento y representa la altura de la columna de agua mientras que la $P_{V(H_2O)}$ se obtiene a partir de la temperatura del agua y la siguiente tabla:

Tabla 1. Presión de vapor de agua ($P_{V(H_2O)}$) en función de la temperatura.

T [°C]	10	11	12	13	14	15	16	17	18	19
P [Pa]	1227.76	1312.43	1402.29	1497.35	1598.14	1704.93	1817.73	1937.18	2063.44	2196.76
T [°C]	20	21	22	23	24	25	26	27	28	29
P [Pa]	2337.82	2486.47	2643.39	2808.85	2983.37	3167.22	3360.94	3564.92	3779.57	4242.87


Tomado del NIST.

En la tabla hay que identificar la temperatura registrada experimentalmente y usar como dato el valor correspondiente de presión de vapor de agua: $P_{V(H_2O)}$.

Ejemplo:

Si la temperatura registrada en el experimento fue de 13 [°C] se usa el valor de 1497.35 [Pa] como dato de $P_{V(H_2O)}$:

$$P_{H_2} = 77\,993.59 \text{ [Pa]} - P_{V(H_2O)} - \left(1000 \frac{\text{kg}}{\text{m}^3} \cdot 9.78 \frac{\text{m}}{\text{s}^2} \cdot h \right)$$


	Manual de prácticas del Laboratorio de Química	Código:	MADO-12
		Versión:	05
		Página	59/104
		Sección ISO	8.3
		Fecha de emisión	08 de agosto de 2025
Facultad de Ingeniería		Área/Departamento: Laboratorio de Química	
La impresión de este documento es una copia no controlada			

$$P_{H_2} = 77\,993.59 \text{ [Pa]} - 1497.35 \text{ [Pa]} - \left(1000 \frac{\text{kg}}{\text{m}^3} \cdot 9.78 \frac{\text{m}}{\text{s}^2} \cdot h \right)$$

Una vez obtenido el valor de la presión parcial de hidrógeno: P_{H_2} usamos este dato para obtener la cantidad de sustancia de hidrógeno obtenida experimentalmente ($n_{H_2,exp}$) usando la ecuación de Clapeyron-Mendeleiev:


$$n_{H_2,exp} = \frac{P_{H_2} V}{RT}$$

Que representa el rendimiento experimental.

	Manual de prácticas del Laboratorio de Química	Código:	MADO-12
		Versión:	05
		Página	60/104
		Sección ISO	8.3
		Fecha de emisión	08 de agosto de 2025
Facultad de Ingeniería		Área/Departamento: Laboratorio de Química	
La impresión de este documento es una copia no controlada			

Práctica 7

TERMOQUÍMICA. DETERMINACIÓN DE LA ENTALPÍA DE UNA REACCIÓN QUÍMICA

	Manual de prácticas del Laboratorio de Química	Código:	MADO-12
		Versión:	05
		Página	61/104
		Sección ISO	8.3
		Fecha de emisión	08 de agosto de 2025
Facultad de Ingeniería		Área/Departamento: Laboratorio de Química	
La impresión de este documento es una copia no controlada			


1. SEGURIDAD EN LA EJECUCIÓN

	Peligro o fuente de energía	Riesgo asociado
1	Manejo de material de vidrio	Si es manipulado inadecuadamente puede romperse en fragmentos filosos.
2	Termómetro	La densidad del mercurio puede romper la ampolla donde está contenido. La manipulación inapropiada puede romper el instrumento, lo que genera fragmentos punzocortantes e intoxicación.
3	Disolución de HCl	El HCl disuelto en agua es una sustancia corrosiva que debe manejarse con precaución ya que puede causar desde irritación cutánea hasta quemaduras graves. Es importante evitar el contacto con los ojos ya que causa lesiones oculares. Asimismo, se debe evitar su inhalación directa ya que puede causar irritación de las vías respiratorias. Se recomienda el uso de guantes al manipular las disoluciones.
4	Disolución de NaOH	El NaOH disuelto en agua es una sustancia corrosiva que debe manejarse con precaución ya que puede causar desde irritación cutánea hasta quemaduras graves. Es importante evitar el contacto con los ojos ya que causa lesiones oculares. Se recomienda el uso de guantes al manipular las disoluciones.

2. OBJETIVOS

EL ALUMNADO:

1. Realizará mediciones calorimétricas de una reacción de neutralización ácido-base.
2. Determinará experimentalmente la entalpía de una reacción de neutralización ácido-base.

	Manual de prácticas del Laboratorio de Química	Código:	MADO-12
		Versión:	05
		Página	62/104
		Sección ISO	8.3
		Fecha de emisión	08 de agosto de 2025
Facultad de Ingeniería		Área/Departamento: Laboratorio de Química	
La impresión de este documento es una copia no controlada			

3. INTRODUCCIÓN

La medición del calor liberado o absorbido durante una reacción química es esencial para comprender el papel que juega la energía en distintos procesos, así como su impacto en el entorno y su posible aprovechamiento en diversas áreas. En química, el calor de reacción, representado por la entalpía (ΔH), es una medida de la cantidad de energía intercambiada durante un proceso químico que implica la ruptura y formación de enlaces entre las sustancias participantes. En este experimento, exploraremos cómo medir y entender el calor de reacción en una reacción ácido-base.


Las reacciones ácido-base son fundamentales en la química, tanto en el laboratorio como en la vida cotidiana. Implican la transferencia de especies químicas que se denominan protones (iones H^+) de una sustancia llamada **ácido** a otra que nombramos **base**, formando agua y una sal como productos. La entalpía de una reacción ácido-base puede ser exotérmica (libera calor al entorno) o endotérmica (absorbe calor del entorno), dependiendo de la diferencia de energía total entre los enlaces de los reactivos y productos.

Para medir el calor de reacción, se emplea un instrumento conocido como calorímetro, el cual es un dispositivo que funciona como un sistema aislado, es decir un pequeño universo en cuyo interior podemos definir un nuevo **sistema**, formado por las sustancias que reaccionan (reactivos), y su **entorno** que incluye tanto al disolvente (o al medio que envuelva a los reactivos) como al calorímetro mismo.

Así, cuando dentro del calorímetro ocurre una reacción química se presenta una transferencia de energía entre el sistema y su entorno, la cual podemos medir a través de un cambio de temperatura que es proporcional al calor liberado o absorbido por el sistema. Esta cantidad de calor se calculará a partir de la diferencia de temperatura registrada junto con las propiedades del entorno y del calorímetro.

El empleo de un calorímetro se basa en los principios de la termodinámica, específicamente en la primera ley. En química, podemos interpretar esta ley de forma que la energía total de un sistema se conserva en una reacción química. Por lo tanto, cualquier calor absorbido o liberado por el sistema se reflejará en un cambio en su energía interna.

Comprender el calor de reacción en una reacción ácido-base no solo nos proporciona información sobre la cantidad de energía involucrada en la transformación de los reactivos en productos, sino que también nos permite investigar la naturaleza de los enlaces químicos y la estabilidad de las especies involucradas.

	Manual de prácticas del Laboratorio de Química	Código:	MADO-12
		Versión:	05
		Página	63/104
		Sección ISO	8.3
		Fecha de emisión	08 de agosto de 2025
Facultad de Ingeniería		Área/Departamento: Laboratorio de Química	
La impresión de este documento es una copia no controlada			

4. MATERIAL Y EQUIPO

- a) 1 vaso de precipitado de 150 [ml].
- b) 2 probetas de 100 [ml].
- c) 1 embudo de vidrio.
- d) 1 calorímetro con tapón de hule.
- e) 1 termómetro de -10 a 110 [°C]
- f) 1 barra magnética de agitación
- g) 1 parrilla de agitación
- h) 1 balanza granataria.

5. REACTIVOS

- 3) Disolución 1 [M] de HCl.
- 4) Disolución 1 [M] de NaOH.

6. DESARROLLO

ACTIVIDAD 1

La figura docente verificará que el alumnado posea los conocimientos teóricos necesarios para la realización de la práctica y dará las recomendaciones necesarias para el manejo del material.


ACTIVIDAD 2.

Mediciones calorimétricas de la reacción de neutralización entre HCl y NaOH.

El trabajo se realizará de forma colaborativa entre todas las brigadas del grupo. Por lo que cada docente asignará el evento experimental descrito en la tabla 1, con el que trabajará cada brigada.

Tabla 1.

Ensayo	V _{HCl, 1[M]} [ml]	V _{NaOH, 1[M]} [ml]	m ₁ [kg]	T ₁ [°C]	T ₂ [°C]	m ₂ [kg]	m _{mezcla} = m ₂ -m ₁ [kg]	ΔT = T ₂ - T ₁ [°C]
1	25	25						
2	30	30						
3	35	35						
4	40	40						
5	45	45						
6	50	50						

	Manual de prácticas del Laboratorio de Química	Código:	MADO-12
		Versión:	05
		Página	64/104
		Sección ISO	8.3
		Fecha de emisión	08 de agosto de 2025
Facultad de Ingeniería		Área/Departamento: Laboratorio de Química	
La impresión de este documento es una copia no controlada			

Una vez asignado el evento con el que trabajará cada brigada, los integrantes de esta se organizarán para llevar a cabo el registro de la información correspondiente siguiendo los siguientes pasos:

Medición de la masa 1 (m_1) y la temperatura inicial (T_1).

1. Coloque la barra de agitación dentro del vaso de precipitados de 150 [ml].
2. Pese el vaso de precipitados con la barra de agitación. Registre este dato como la masa 1 (m_1) y expréselo en [kg].
3. Mida con una probeta el volumen de la disolución de HCl 1 [M] correspondiente al ensayo que se les ha asignado y agréguelo dentro del vaso de precipitados.
4. Coloque el vaso dentro del recipiente aislante del calorímetro.
5. Inserte con cuidado el termómetro dentro del tapón horadado de hule, ponga este tapón en la tapa del calorímetro y ajuste el termómetro para que el bulbo quede cubierto por la disolución de HCl.
6. Coloque la tapa del calorímetro sobre este y encienda la agitación.


NOTA: Es importante que el bulbo del termómetro quede dentro de la disolución y la barra magnética no golpee el bulbo durante la agitación.

No olvide colocar la pequeña tapa azul sobre la tapa del calorímetro.

7. Registre la temperatura de la disolución, este dato lo identificará como la temperatura inicial o T_1 .

Medición y adición del volumen de la disolución de NaOH.

8. Con la segunda probeta mida el volumen correspondiente de la disolución de NaOH 1 [M] para el ensayo que está trabajando.
9. Retire la tapa pequeña del calorímetro y con ayuda del embudo agregue rápidamente la disolución de NaOH al vaso de vidrio que está dentro del calorímetro y contiene la disolución de HCl.

	Manual de prácticas del Laboratorio de Química	Código:	MADO-12
		Versión:	05
		Página	65/104
		Sección ISO	8.3
		Fecha de emisión	08 de agosto de 2025
Facultad de Ingeniería		Área/Departamento: Laboratorio de Química	
La impresión de este documento es una copia no controlada			

Registro de la temperatura final (T_2) y masa 2 (m_2).

10. Tape el calorímetro inmediatamente después de que ha añadido la disolución de NaOH, espere alrededor de 30 segundos y registre la temperatura final (T_2).
11. Detenga la agitación y retire el vaso de vidrio del calorímetro.
12. Mida la masa del vaso de vidrio con la mezcla de reacción. Este dato es la masa final o masa 2 (m_2), expréselo en [kg].
13. Obtenga la masa de la mezcla de reacción a partir de la diferencia entre m_2 y m_1 . Exprese su resultado en kilogramos [kg].

$$m_{mezcla} = m_2 - m_1$$
14. Registren sus datos obtenidos en la tabla 1. Cada brigada deberá compartir sus resultados para completar dicha tabla.

MANEJO DE RESIDUOS

Deseche la mezcla de reacción a la tarja.

Este procedimiento es ambientalmente adecuado debido a que la mezcla es neutra y sólo contiene agua y cloruro de sodio.

ACTIVIDAD 3.


Obtención de la entalpía de la reacción.

Con los datos de la tabla 1 se deberá realizar lo siguiente para cada ensayo:

1. A partir de la expresión:

$$Q_{abs,m} = m_{mezcla} \cdot C_e \cdot \Delta T$$

Calcule la cantidad de energía absorbida en forma de calor por parte de la mezcla de reacción ($Q_{abs,m}$) al ocurrir la neutralización de los reactivos en cada uno de los ensayos. Considere que la capacidad térmica específica de la mezcla que se obtuvo después de la reacción: C_e , es de 4058.48 [J/kg°C].

	Manual de prácticas del Laboratorio de Química	Código:	MADO-12
		Versión:	05
		Página	66/104
		Sección ISO	8.3
		Fecha de emisión	08 de agosto de 2025
Facultad de Ingeniería		Área/Departamento: Laboratorio de Química	
La impresión de este documento es una copia no controlada			

2. Calcule la cantidad de calor absorbida por el calorímetro ($Q_{abs,cal}$) en cada uno de los ensayos. Considere que la capacidad térmica del calorímetro, $C_{cal} = 46.6 \text{ [J/}^\circ\text{C]}$.

$$Q_{abs,cal} = C_{cal} \cdot \Delta T$$

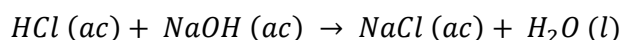
3. Evalúe la cantidad de calor total absorbida por la mezcla de reacción ($Q_{absorbido}$) en cada ensayo.

$$Q_{absorbido} = Q_{abs,m} + Q_{abs,cal}$$

4. Calcule el calor liberado por la reacción ($Q_{liberado}$) en cada ensayo.

$$-Q_{liberado} = Q_{absorbido}$$

5. Calcule la cantidad de sustancia obtenida para el agua (n_{H_2O}) que se obtiene para cada ensayo. Considere que la ecuación química que representa la neutralización entre HCl y NaOH es:




6. Complete la siguiente tabla:

Tabla 2.

Ensayo	ΔT [$^\circ\text{C}$]	$Q_{abs,m}$ [J]	$Q_{abs,cal}$ [J]	$Q_{absorbido}$ [J]	Q_{lib} [J]	Q_{lib} [kJ]	n_{H_2O} [mol]
1							
2							
3							
4							
5							


7. Obtenga el modelo gráfico y matemático de $Q_{lib} \text{ [kJ]} = f(n_{H_2O} \text{ [mol]})$. Anote el valor de la pendiente, este dato representa la entalpía de la reacción asociada a la formación de un mol de agua.

	Manual de prácticas del Laboratorio de Química	Código:	MADO-12
		Versión:	05
		Página	67/104
		Sección ISO	8.3
		Fecha de emisión	08 de agosto de 2025
Facultad de Ingeniería		Área/Departamento: Laboratorio de Química	
La impresión de este documento es una copia no controlada			

- Compare el valor de su resultado experimental con el valor obtenido usando las entalpías de formación determinadas en el estado estándar a 25 [°C] y evalúe el porcentaje de error experimental.

7. BIBLIOGRAFÍA

- Chang, R., & Goldsby, K. A. (2013). *Química*.
- Brown, T., Le May, E., & Burnsten, B. (2014). *Química: la ciencia central*.


	Manual de prácticas del Laboratorio de Química	Código:	MADO-12
		Versión:	05
		Página	68/104
		Sección ISO	8.3
		Fecha de emisión	08 de agosto de 2025
Facultad de Ingeniería		Área/Departamento: Laboratorio de Química	
La impresión de este documento es una copia no controlada			

CUESTIONARIO PREVIO

1. ¿Qué es la calorimetría?
2. ¿Qué es la capacidad térmica específica de una sustancia?
3. ¿Cómo se calcula el calor transferido o absorbido por una masa determinada de un material?
4. Defina los siguientes conceptos desde un punto de vista termodinámico:
 - a. Sistema
 - b. Entorno
 - c. Universo
5. ¿Cuáles son las diferencias entre sistemas abiertos, cerrados y aislados?
6. ¿Qué es la entalpía desde el punto de vista de la química?

BIBLIOGRAFÍA

1. Chang, R., & Goldsby, K. A. (2013). *Química*.
2. Brown, T., Le May, E., & Burnsten, B. (2014). *Química: la ciencia central*.

	Manual de prácticas del Laboratorio de Química	Código:	MADO-12
		Versión:	05
		Página	69/104
		Sección ISO	8.3
		Fecha de emisión	08 de agosto de 2025
Facultad de Ingeniería		Área/Departamento: Laboratorio de Química	
La impresión de este documento es una copia no controlada			

APÉNDICE

El calor liberado ($Q_{liberado}$) durante la reacción se obtiene al aplicar la primera ley de la termodinámica y establecer que el calor liberado ($Q_{liberado}$) por el sistema (representado por los reactivos) es igual al calor absorbido por el entorno (la mezcla y el calorímetro). Matemáticamente, esto se expresa de la siguiente forma:

$$- Q_{liberado} = Q_{absorbido}$$

NOTA: Por convención se asigna signo negativo al calor liberado.

El calor absorbido por el entorno ($Q_{absorbido}$) depende tanto del calor absorbido por la mezcla obtenida ($Q_{abs,m}$) como del calor absorbido por el calorímetro ($Q_{abs,cal}$):

$$Q_{absorbido} = Q_{abs,m} + Q_{abs,cal}$$

Por lo tanto, es necesario calcular ambas contribuciones.

Cálculo de calor absorbido por la mezcla.

El calor absorbido por la mezcla ($Q_{abs,m}$) depende de la masa de la mezcla (m_{mezcla}), la capacidad térmica específica de esta (C_e) y la diferencia de temperatura (ΔT) registrada durante la reacción. La expresión para calcularlo es la siguiente:

$$Q_{abs,m} = m_{mezcla} \cdot C_e \cdot \Delta T$$


Como la capacidad térmica específica de la mezcla de reacción obtenida es de 4058.48 [J/kg°C], la expresión de calor absorbido por la mezcla queda descrita como:

$$Q_{abs,m} = m_{mezcla}[kg] \cdot 4058.48 \left[\frac{J}{kg \cdot ^\circ C} \right] \cdot \Delta T$$

Cálculo de calor absorbido por el calorímetro.

Por su parte, el calor absorbido por el calorímetro ($Q_{abs,cal}$) depende de la capacidad térmica de este: C_{cal} y de la diferencia de temperatura: ΔT registrada. Por lo que para calcularlo usamos la siguiente expresión:

$$Q_{abs,cal} = C_{cal} \cdot \Delta T$$

	Manual de prácticas del Laboratorio de Química	Código:	MADO-12
		Versión:	05
		Página	70/104
		Sección ISO	8.3
		Fecha de emisión	08 de agosto de 2025
Facultad de Ingeniería		Área/Departamento: Laboratorio de Química	
La impresión de este documento es una copia no controlada			

Si consideramos que la capacidad térmica promedio del calorímetro (C_{cal}) es de $46.6 \text{ [J/}^\circ\text{C]}$ entonces la expresión queda como:

$$Q_{abs,cal} = 46.6 \left[\frac{J}{^\circ C} \right] \cdot \Delta T$$

Calor absorbido por el entorno.

Al considerar que el calor absorbido por el entorno depende tanto del calor absorbido por la mezcla como por el calorímetro, tenemos que su cálculo queda descrito como sigue:

$$Q_{absorbido} = Q_{abs,m} + Q_{abs,cal}$$

$$Q_{absorbido} = m_{mezcla} [kg] \cdot 4058.48 \left[\frac{J}{kg \cdot ^\circ C} \right] \cdot \Delta T + 46.6 \left[\frac{J}{^\circ C} \right] \cdot \Delta T$$

Calor liberado por el sistema al ocurrir la reacción.

El calor liberado por el sistema es igual al calor absorbido por el entorno y como ya se estableció al principio de este apéndice, se calcula aplicando la primera ley de la termodinámica:


$$- Q_{liberado} = Q_{absorbido}$$

$$- Q_{liberado} = m_{mezcla} [kg] \cdot 4058.48 \left[\frac{J}{kg \cdot ^\circ C} \right] \cdot \Delta T + 46.6 \left[\frac{J}{^\circ C} \right] \cdot \Delta T$$

O bien:

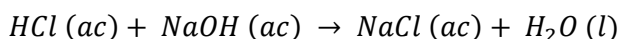
$$Q_{liberado} = - \left(m_{mezcla} [kg] \cdot 4058.48 \left[\frac{J}{kg \cdot ^\circ C} \right] + 46.6 \left[\frac{J}{mol} \right] \right) \cdot \Delta T$$

Este cálculo deberá realizarse para cada ensayo.

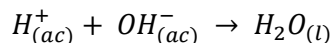
	Manual de prácticas del Laboratorio de Química	Código:	MADO-12
		Versión:	05
		Página	71/104
		Sección ISO	8.3
		Fecha de emisión	08 de agosto de 2025
Facultad de Ingeniería		Área/Departamento: Laboratorio de Química	
La impresión de este documento es una copia no controlada			

Modelo gráfico

El experimento se ha realizado a presión y masa constantes, y por lo tanto el calor que se ha determinado en cada uno de los ensayos corresponde a la entalpía de la reacción. Además, como la entalpía es una propiedad extensiva, se espera que al trazar el gráfico $Q_{liberado}[\text{kJ}] = f(n\text{H}_2\text{O} [\text{mol}])$ se tenga un modelo lineal cuya pendiente representa la **entalpía de la reacción cuando se obtiene un mol de agua**. Como también se han usado disoluciones con concentración 1[M] y se ha trabajado a una presión cercana a 1 [atm] (0.77 [atm] aproximadamente) podemos comparar el valor de la pendiente con el cálculo de la entalpía de la reacción en el estado estándar. Para ello debemos usar los datos de entalpías de formación de reactivos y productos involucrados en la reacción química.



Que en su forma iónica queda descrita como:



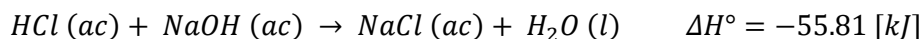
Los valores de entalpía de formación evaluadas en el estado estándar a 25 [°C] de las especies químicas involucradas en la reacción son las siguientes:

Especie química	$\Delta H_f^0 \left[\frac{\text{kJ}}{\text{mol}} \right]$
$\text{H}_{(ac)}^+$	0
$\text{OH}_{(ac)}^-$	-229.99
$\text{H}_2\text{O}_{(l)}$	-285.8


El cálculo de la entalpía de reacción usando estos datos queda como:

$$\begin{aligned} \Delta H^\circ &= \left[1 [\text{mol}] \text{ de } \text{H}_2\text{O} * \left(-285.8 \left[\frac{\text{kJ}}{\text{mol}} \right] \right) \right] \\ &\quad - \left[1 [\text{mol}] \text{ de } \text{H}^+ * \left(0 \left[\frac{\text{kJ}}{\text{mol}} \right] \right) + 1 [\text{mol}] \text{ de } \text{OH}^- * \left(-229.99 \left[\frac{\text{kJ}}{\text{mol}} \right] \right) \right] \\ \Delta H^\circ &= -55.81 [\text{kJ}] \end{aligned}$$

Por lo que la ecuación termoquímica queda descrita como sigue:




Y nos muestra que al formarse un mol de agua se liberan 55.81 [kJ].

	Manual de prácticas del Laboratorio de Química	Código:	MADO-12
		Versión:	05
		Página	72/104
		Sección ISO	8.3
		Fecha de emisión	08 de agosto de 2025
Facultad de Ingeniería		Área/Departamento: Laboratorio de Química	
La impresión de este documento es una copia no controlada			

Práctica 8

EQUILIBRIO QUÍMICO

	Manual de prácticas del Laboratorio de Química	Código:	MADO-12
		Versión:	05
		Página	73/104
		Sección ISO	8.3
		Fecha de emisión	08 de agosto de 2025
Facultad de Ingeniería		Área/Departamento: Laboratorio de Química	
La impresión de este documento es una copia no controlada			

1. SEGURIDAD EN LA EJECUCIÓN

	Peligro o fuente de energía	Riesgo asociado
1	Manejo de material de vidrio.	Si es manipulado inadecuadamente puede romperse en fragmentos filosos.
2	Parrilla eléctrica.	Si no se usa con precaución, puede provocar quemaduras en la piel.
3	Sustancias químicas.	Su manipulación requiere lavarse las manos al finalizar la práctica.

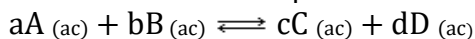
2. OBJETIVOS

EL ALUMNADO:

1. Comprobará experimentalmente la existencia del equilibrio químico.
2. Verificará experimentalmente el principio de Le Chatelier.
3. Determinará experimentalmente la constante de equilibrio del ácido acético.

3. INTRODUCCIÓN


Se conoce que una reacción química se encuentra en equilibrio químico cuando llega a un momento a partir del cual ya no se presenta ningún cambio en la concentración de reactivos ni de productos a medida que transcurre el tiempo, debido a que las rapidezces de la reacción directa y de la reacción inversa son iguales. Con base en lo anterior, el equilibrio químico se ha definido como el equilibrio dinámico que asume la forma de una reacción química, tal que, para una reacción reversible se puede hacer el siguiente planteamiento:



donde a, b, c y d son los coeficientes estequiométricos para las sustancias A, B, C y D, respectivamente. La expresión matemática para la constante de equilibrio en términos de las concentraciones de las sustancias está dada por:

$$K_c = \frac{[\text{productos}]}{[\text{reactivos}]} = \frac{[C]^c [D]^d}{[A]^a [B]^b}$$

Esta expresión se basa en la ley de acción de masas, la cual relaciona las concentraciones de reactivos y productos en el equilibrio, a una temperatura dada. La constante de equilibrio para una reacción dada se puede calcular partiendo de concentraciones conocidas de reactivos y productos en el equilibrio.

	Manual de prácticas del Laboratorio de Química	Código:	MADO-12
		Versión:	05
		Página	74/104
		Sección ISO	8.3
		Fecha de emisión	08 de agosto de 2025
Facultad de Ingeniería		Área/Departamento: Laboratorio de Química	
La impresión de este documento es una copia no controlada			

El valor de K_c permanece constante sólo para una temperatura de equilibrio dada, permitiendo predecir la dirección en la que se desplazará la reacción para lograr el equilibrio cuando se lleva al cabo un cambio de concentración de alguno de los reactivos o productos. Lo anterior se basa en el principio de Le Chatelier, el cual establece la dirección en la que se debe desplazar el equilibrio para minimizar el efecto del cambio en la concentración, presión o temperatura en el equilibrio de una reacción.

4. MATERIAL Y EQUIPO

- a) 3 vasos de precipitados de 30[ml].
- b) 1 medidor de pH.
- c) 1 espátula de doble punta.
- d) 1 varilla de vidrio.
- e) 1 balanza semianalítica digital

5. REACTIVOS

- 1) Disoluciones 0.1 [M], 0.05 [M] y 0.01 [M] de ácido acético, CH_3COOH .
- 2) Acetato de sodio, CH_3COONa .
- 3) Agua destilada.

6. DESARROLLO

ACTIVIDAD 1.


La figura docente verificará que el alumnado posea los conocimientos teóricos necesarios para la realización de la práctica y explicará el manejo de los reactivos que se emplearán

ACTIVIDAD 2

Determinación de la constante de equilibrio.

1. Etiquete tres vasos de precipitados de 30 [ml] con las diferentes disoluciones de ácido acético y transfiera aproximadamente 20 [ml] en cada uno de los vasos.
3. Retire la cubierta protectora de la celda del medidor de pH e introdúzcala en la disolución de 0.01 [M], procurando que la punta del electrodo quede completamente sumergida dentro del líquido (como se muestra en la figura 1). Agite ligeramente el electrodo para desalojar las burbujas de aire que hayan quedado retenidas en la punta. Seleccione con ayuda de la perilla el pH y enciéndalo.

NOTA: Evite golpear el electrodo con las paredes del vaso de precipitados.

	Manual de prácticas del Laboratorio de Química	Código:	MADO-12
		Versión:	05
		Página	75/104
		Sección ISO	8.3
		Fecha de emisión	08 de agosto de 2025
Facultad de Ingeniería		Área/Departamento: Laboratorio de Química	
La impresión de este documento es una copia no controlada			

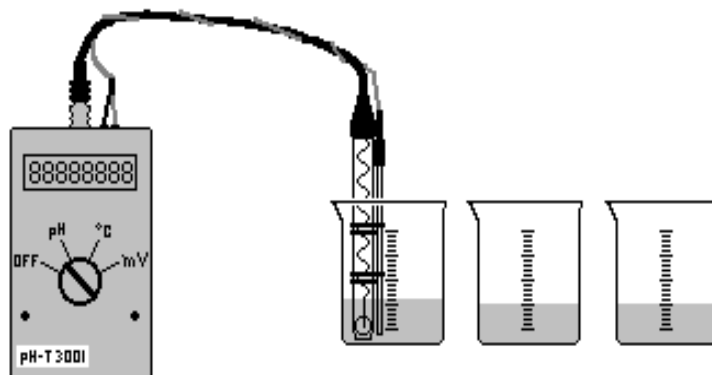


Figura 1

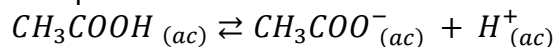
- Una vez hecha la medición del pH, apague el medidor, saque el electrodo y enjuáguelo con agua destilada.

NOTA: En caso de no enjuagar después de cada lectura, la punta del electrodo se obtendrán resultados erróneos.

- Repita el paso 2 y 3 para determinar el pH de las otras dos disoluciones de ácido acético.
- Con los datos de pH, llene la tabla siguiente:

Disolución de ácido acético	pH	[H ⁺]	K _a
0.01 [M]			
0.05 [M]			
0.1 [M]			


- En el apéndice de la práctica encontrará los cálculos que se deberán realizar para determinar la constante de equilibrio del ácido acético.



MANEJO DE RESIDUOS

Las disoluciones de 0.05 [M] y 0.01 [M] de ácido acético se regresarán a sus respectivos recipientes.

La disolución 0.1 [M] se usará en la actividad 3.

	Manual de prácticas del Laboratorio de Química	Código:	MADO-12
		Versión:	05
		Página	76/104
		Sección ISO	8.3
		Fecha de emisión	08 de agosto de 2025
Facultad de Ingeniería		Área/Departamento: Laboratorio de Química	
La impresión de este documento es una copia no controlada			

ACTIVIDAD 3

Principio de Le Chatelier (efecto del ion común). Determinación del pKa.

1. Pese 0.2 [g] de acetato de sodio.
2. Agregue, con ayuda de la espátula, el acetato de sodio al vaso de precipitados que contiene la disolución 0.1 [M] de ácido acético y que usó en la actividad 2.
3. Agite con la varilla de vidrio para disolver por completo la sal.
4. Mida el pH con el potenciómetro.
5. Repita los pasos 1 a 4 y complete la siguiente tabla:

Tabla 1.

Evento	Masa pesada de Acetato de sodio en cada evento	Masa total de acetato de sodio agregada	pH
1	0.2 [g]	0.2 [g]	
2	0.2 [g]	0.4 [g]	
3	0.2 [g]	0.6 [g]	

MANEJO DE RESIDUOS

Al terminar el experimento se desecha a la tarja la disolución 0.1 [M] a la que se añadió el acetato de sodio.


6. A partir de la masa total, calcule para cada evento la cantidad de sustancia de acetato de sodio, así como la concentración molar de esta sal al agregarse a los 20 [ml] de disolución. Complete la siguiente tabla:

Tabla 2.

Evento	$m_T \text{ CH}_3\text{COONa}$	$n_T \text{ CH}_3\text{COONa}$ [mol]	$[\text{CH}_3\text{COONa}]$ [M]	$[\text{CH}_3\text{COOH}]$ [M]	$\frac{[\text{CH}_3\text{COO}^-]}{[\text{CH}_3\text{COOH}]}$
1	0.2 [g]				
2	0.4 [g]				
3	0.6 [g]				

Calcule el cociente de concentraciones $\frac{[\text{CH}_3\text{COO}^-]}{[\text{CH}_3\text{COOH}]}$ y trace un gráfico de:


$$pH = f \left(\log_{10} \left(\frac{[\text{CH}_3\text{COO}^-]}{[\text{CH}_3\text{COOH}]} \right) \right)$$

	Manual de prácticas del Laboratorio de Química	Código:	MADO-12
		Versión:	05
		Página	77/104
		Sección ISO	8.3
		Fecha de emisión	08 de agosto de 2025
Facultad de Ingeniería		Área/Departamento: Laboratorio de Química	
La impresión de este documento es una copia no controlada			

7. Revise en el apéndice de la práctica la explicación de los cálculos.
8. Determine el pKa del ácido acético y, a partir de este valor, obtenga la Ka.
9. Compare el valor de Ka promedio obtenido en la actividad 2 con el que ha obtenido en la actividad 3. ¿Cuál de los dos valores le permite obtener el valor más bajo de porcentaje de error experimental?

7. BIBLIOGRAFÍA.

1. Mortimer, C. E. (1983). *Química*.
2. Russell, J. B., & Larena, A. (1988). *Química*.
3. Chang, R., & Goldsby, K. A. (2013). *Química*.
4. Brown, T. L., Le May, H. E., & Burnsten, B. E. (2014). *Química: la ciencia central*.

	Manual de prácticas del Laboratorio de Química	Código:	MADO-12
		Versión:	05
		Página	78/104
		Sección ISO	8.3
		Fecha de emisión	08 de agosto de 2025
Facultad de Ingeniería		Área/Departamento: Laboratorio de Química	
La impresión de este documento es una copia no controlada			


CUESTIONARIO PREVIO EQUILIBRIO QUÍMICO

1. ¿Qué es una reacción reversible?
2. ¿Cuáles son los factores que afectan al equilibrio químico?
3. ¿Qué establece el principio de Le Chatelier?
4. Suponiendo que la reacción reversible siguiente se lleva a cabo en un sistema cerrado:

$$A_{(g)} + B_{(g)} \rightleftharpoons C_{(l)} + D_{(l)}$$
5. Indique hacia dónde se desplaza el equilibrio si:
 - a) Hay una disminución de presión.
 - b) Se adiciona $A_{(g)}$ a la mezcla de reacción.
6. ¿Cuál es la expresión matemática para calcular el pH de un ácido débil?
7. ¿Qué es un ácido monoprótico?
8. Investigue cuál es el valor de la constante de acidez del ácido acético en condiciones estándar.

BIBLIOGRAFÍA.

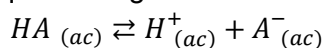
1. Mortimer, C. E. (1983). *Química*.
2. Russell, J. B., & Larena, A. (1988). *Química*.
3. Chang, R., & Goldsby, K. A. (2013). *Química*.
4. Brown, T. L., Le May, H. E., & Burnsten, B. E. (2014). *Química: la ciencia central*.

	Manual de prácticas del Laboratorio de Química	Código:	MADO-12
		Versión:	05
		Página	79/104
		Sección ISO	8.3
		Fecha de emisión	08 de agosto de 2025
Facultad de Ingeniería		Área/Departamento: Laboratorio de Química	
La impresión de este documento es una copia no controlada			

APÉNDICE

Actividad 2

Cuando se tiene un ácido monoprótico (HA) débil disuelto en agua, éste se disociará parcialmente, estableciendo el equilibrio siguiente:



Dicho equilibrio está caracterizado por una constante, expresada por:

$$K_a = \frac{[H^+][A^-]}{[HA]}$$

Por otro lado, si se considera que la concentración inicial del ácido HA es C [M], se pueden establecer entonces las relaciones siguientes:

	$HA_{(ac)} \rightleftharpoons H^+_{(ac)} + A^-_{(ac)}$		
Tiempo inicial (t_0)	C	0.0	0.0
Tiempo de equilibrio (t_{eq})	C-x	X	x

Con base en lo anterior, y dado que $[A^-] = [H^+] = X$, la expresión de la constante de equilibrio puede expresarse de la manera siguiente:

$$K_a = \frac{x^2}{C - x}$$


Como se trata del equilibrio de un ácido débil, la concentración de los iones H^+ es despreciable frente a C y puede aproximarse de la manera siguiente:

$$K_a = \frac{x^2}{C}$$

Dado que X corresponde a la concentración de H^+ en el equilibrio, puede determinarse la concentración de H^+ si se mide el pH de la disolución en el equilibrio, ya que:

$$pH = -\log [H^+]$$

Por lo anterior, conociendo la concentración de H^+ se puede determinar el valor de la constante de acidez K_a .

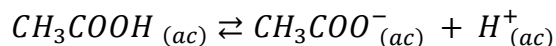
	Manual de prácticas del Laboratorio de Química	Código:	MADO-12
		Versión:	05
		Página	80/104
		Sección ISO	8.3
		Fecha de emisión	08 de agosto de 2025
Facultad de Ingeniería		Área/Departamento: Laboratorio de Química	
La impresión de este documento es una copia no controlada			

Actividad 3

En la Actividad 3 se evalúa el principio de Le Chatelier de forma cuantitativa. Este principio establece que cuando se altera el estado de equilibrio de un sistema químico en el que coexisten reactivos y productos, se observará una respuesta del sistema que tiene por objetivo cancelar la alteración y alcanzar un nuevo estado de equilibrio. Los factores que alteran el estado de equilibrio de un sistema químico son los cambios de concentración y los cambios de presión-volumen (cuando hay gases presentes).

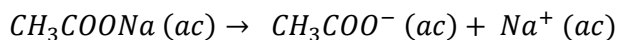
En el experimento realizado, se observa el efecto que tiene el aumento en la concentración de iones acetato al adicionar acetato de sodio al proceso de disociación del ácido acético, que es un fenómeno en el que coexisten iones acetato, iones hidronio y moléculas de ácido acético.

Como ya se describió en la práctica, la disociación del ácido acético:



Produce iones acetato e iones hidronio que coexisten con moléculas de ácido acético, por lo que cuando se alcanza el estado de equilibrio para dicha disociación tenemos una mezcla de reactivo: ácido acético y productos: iones CH_3COO^- e iones H^+ .


El acetato de sodio es una sal que se ioniza por completo en agua, de acuerdo con la siguiente ecuación:



y por lo tanto, la concentración de esta sal es igual a la de los iones acetato (CH_3COO^-) que genera. De esta manera, se cumple que:

$$[CH_3COONa] = [CH_3COO^-]$$

Así, al agregar acetato de sodio estamos añadiendo iones acetato al sistema, en otras palabras, estamos aumentando la concentración de un producto al sistema en equilibrio. Ante esta perturbación, el sistema responde y la estrategia experimental para registrar esta respuesta es la medición del pH.

	Manual de prácticas del Laboratorio de Química	Código:	MADO-12
		Versión:	05
		Página	81/104
		Sección ISO	8.3
		Fecha de emisión	08 de agosto de 2025
Facultad de Ingeniería		Área/Departamento: Laboratorio de Química	
La impresión de este documento es una copia no controlada			

De esta forma, para entender cómo responde el sistema ante el aumento de concentración de iones acetato, compararemos el valor de pH antes de agregar el acetato de sodio y después de haberlo añadido. La variación de este parámetro nos indicará cómo ha respondido el sistema.

La definición matemática de pH nos indica que éste es inversamente proporcional a la concentración de iones H^+ . Por lo tanto, al evaluar el pH estamos determinando si la concentración de iones H^+ aumenta o disminuye como resultado de la adición de acetato de sodio. De esta forma verificamos la existencia del principio de Le chatelier.

Ahora bien, si evaluamos de forma controlada la cantidad que añadimos de acetato de sodio, estamos en posibilidad de calcular la concentración añadida de iones acetato y, a través de la constante de equilibrio: K_a , podemos establecer una relación matemática entre la concentración de iones H^+ y de iones acetato:

Expresión de K_a :

$$K_a = \frac{[H^+][CH_3COO^-]}{[CH_3COOH]}$$

Relación entre la concentración de iones H^+ y de iones acetato (A^-):

$$\frac{1}{[H^+]} = \frac{1}{K_a} \cdot \frac{[CH_3COO^-]}{[CH_3COOH]}$$


Si expresamos esta ecuación en forma logarítmica, tenemos:

$$\log \frac{1}{[H^+]} = \log \frac{1}{K_a} + \log \frac{[CH_3COO^-]}{[CH_3COOH]}$$

O bien:

$$pH = pK_a + \log \frac{[CH_3COO^-]}{[CH_3COOH]}$$

Por lo que si trazamos un gráfico de

	Manual de prácticas del Laboratorio de Química	Código:	MADO-12
		Versión:	05
		Página	82/104
		Sección ISO	8.3
		Fecha de emisión	08 de agosto de 2025
Facultad de Ingeniería		Área/Departamento: Laboratorio de Química	
La impresión de este documento es una copia no controlada			

$$pH = f \left(\log_{10} \left(\frac{[CH_3COO^-]}{[CH_3COOH]} \right) \right)$$

Con los datos experimentales de pH y concentración de iones acetato obtenemos una línea recta cuya pendiente es igual a 1 y cuya ordenada al origen es el valor de pKa.

Por otra parte, es preciso aclarar que durante los eventos experimentales no se adiciona ácido acético, por lo que su concentración permanece sin cambio durante los experimentos de adición de acetato de sodio. Así, tenemos que en cada evento la concentración de ácido acético es 0.1 [M].


Evento	$[CH_3COOH]$ [M]
1	0.1
2	0.1
3	0.1

El pKa es un parámetro que nos permite expresar la constante de equilibrio de disociación ácida (K_a) en términos numéricos más simples. Matemáticamente el pKa se define como:

$$pKa = \log_{10} \left(\frac{1}{K_a} \right)$$


Por lo tanto, la K_a equivale a:

$$K_a = 10^{-pKa}$$

	Manual de prácticas del Laboratorio de Química	Código:	MADO-12
		Versión:	05
		Página	83/104
		Sección ISO	8.3
		Fecha de emisión	08 de agosto de 2025
Facultad de Ingeniería		Área/Departamento: Laboratorio de Química	
La impresión de este documento es una copia no controlada			

Práctica 9

ELECTROQUÍMICA. ELECTRÓLISIS DE DISOLUCIONES ACUOSAS Y CONSTANTE DE AVOGADRO

	Manual de prácticas del Laboratorio de Química	Código:	MADO-12
		Versión:	05
		Página	84/104
		Sección ISO	8.3
		Fecha de emisión	08 de agosto de 2025
Facultad de Ingeniería		Área/Departamento: Laboratorio de Química	
La impresión de este documento es una copia no controlada			

1. SEGURIDAD EN LA EJECUCIÓN

	Peligro o fuente de energía	Riesgo asociado
1	Manejo de material de vidrio.	Si es manipulado inadecuadamente puede romperse en fragmentos filosos.
2	Termómetro.	La densidad del mercurio puede romper la ampolla donde está contenido. La manipulación inapropiada puede romper el instrumento, lo que genera fragmentos punzocortantes e intoxicación.
3	Sustancias químicas.	Su manipulación requiere lavarse las manos al finalizar la práctica.

2. OBJETIVOS

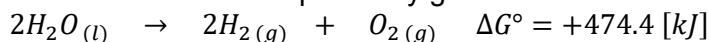
EL ALUMNADO:

1. Conocerá el aparato de Hofmann para la electrólisis del agua.
2. Cuantificará la carga eléctrica implicada en la electrólisis del agua, así como el volumen de las sustancias producidas en los electrodos.
3. Determinará el rendimiento de la reacción.
4. Determinará experimentalmente el valor del número de Avogadro.


3. INTRODUCCIÓN

En la conducción electrolítica, la carga eléctrica es transportada por iones, y no ocurrirá a menos que los iones del electrólito puedan moverse libremente. La conducción electrolítica se da principalmente en las sales fundidas y en las disoluciones acuosas de electrólitos, al contrario de una reacción redox espontánea, que da lugar a la conversión de energía química en energía eléctrica. La electrólisis es un proceso en el cual la energía eléctrica se utiliza para provocar una reacción química que no es espontánea.

El agua en condiciones normales (101.325 [kPa] y 25 [°C]) no se disocia espontáneamente para formar hidrógeno y oxígeno gaseosos, porque el cambio de energía libre estándar para la reacción es una cantidad positiva y grande como se muestra en la reacción siguiente:



Sin embargo, esta reacción puede inducirse al electrolizar el agua en un aparato para electrólisis de Hofmann. Este aparato consiste en dos electrodos hechos de un material

	Manual de prácticas del Laboratorio de Química	Código:	MADO-12
		Versión:	05
		Página	85/104
		Sección ISO	8.3
		Fecha de emisión	08 de agosto de 2025
Facultad de Ingeniería		Área/Departamento: Laboratorio de Química	
La impresión de este documento es una copia no controlada			

poco reactivo, como el platino, sumergidos en agua. Cuando los electrodos se conectan a una fuente de energía eléctrica, aparentemente no sucede nada, porque en el agua pura no existen los suficientes iones para transportar una cantidad apreciable de corriente eléctrica (el agua pura contiene concentraciones de 1×10^{-7} [M] de iones H^+ y 1×10^{-7} [M] de iones OH^-).

En el laboratorio de química puede llevarse al cabo la electrólisis de disoluciones de ácido sulfúrico, hidróxido de sodio, sulfato de potasio, cloruro de sodio, etc. En ésta práctica se utilizará una disolución de hidróxido de sodio para aumentar la concentración de los iones OH^- .

Por otra parte, la cantidad de corriente involucrada en la electrólisis del agua permite determinar el valor de la constante de Avogadro a través de la relación que se establece entre el número de electrones involucrados en la electrólisis y el número de moles de electrones que oxidan a los iones OH^- para producir oxígeno gaseoso.

4. EQUIPO Y MATERIAL

- a) Aparato de Hofmann constituido por los elementos siguientes:
 - i. Un soporte con varilla.
 - ii. Una placa de sujeción con anillo metálico.
 - iii. Un contenedor de vidrio de 250 [ml] con manguera de conexión.
 - iv. Dos electrodos de platino.
 - v. Dos buretas de vidrio de 50 [ml] con llave de teflón, unidas mediante un tubo de vidrio.
- b) Una fuente de diferencia de potencial baja (PASCO SF-9584, 0-21 [V] DC)
- c) Un multímetro digital WAVETEK.
- d) Tres cables de conexión banana-banana.
- e) Un cronómetro.
- f) Termómetro de -10 [°C] a 120 [°C]


5. REACTIVOS

- 1) 250 [ml] de disolución al 10 % m/m de hidróxido de sodio, NaOH.

6. DESARROLLO

ACTIVIDAD 1.

La figura docente verificará que el alumnado posea los conocimientos teóricos necesarios para la realización de la práctica y explicará los cuidados que deben tenerse en el manejo del equipo.

	Manual de prácticas del Laboratorio de Química	Código:	MADO-12
		Versión:	05
		Página	86/104
		Sección ISO	8.3
		Fecha de emisión	08 de agosto de 2025
Facultad de Ingeniería		Área/Departamento: Laboratorio de Química	
La impresión de este documento es una copia no controlada			

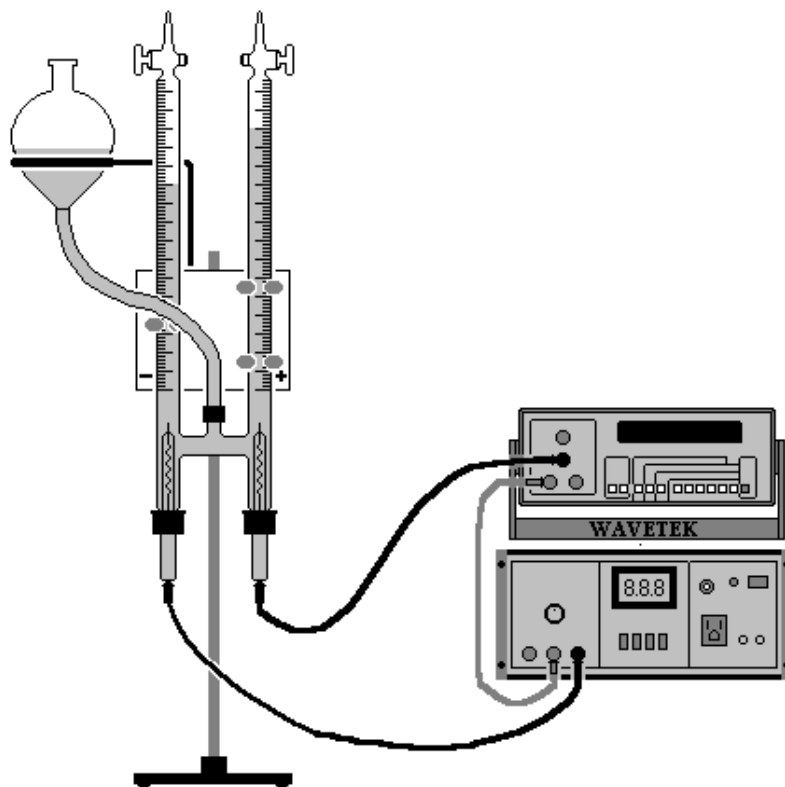
ACTIVIDAD 2.


PROCEDIMIENTO PARA REALIZAR LA ELECTRÓLISIS DEL AGUA

El procedimiento para llevar a cabo la electrólisis del agua comprende los puntos siguientes:

Armado del aparato de Hofmann

1. Atornille firmemente la varilla al soporte y sujete la placa de sujeción a la varilla.
2. Coloque el anillo metálico en la parte posterior de la placa de sujeción (atornille firmemente). Posteriormente, embone primero la bureta izquierda en el sujetador izquierdo, verificando que la graduación quede al frente.
3. Embone la bureta derecha en los sujetadores restantes, empezando por el sujetador superior y suba las buretas lo necesario para poder colocar los electrodos, verificando que éstos queden bien sujetos y lo más verticalmente posible.
4. Conecte la manguera al contenedor y coloque éste en el anillo metálico.
5. Conecte el otro extremo de la manguera a la entrada que se encuentra entre las dos buretas, de tal manera que la manguera pase por el frente de ellas. El sistema experimental constituido por el aparato de Hofmann, la fuente de diferencia de potencial baja, el multímetro y los cables de conexión, quedará dispuesto como se muestra en la figura siguiente.



	Manual de prácticas del Laboratorio de Química	Código:	MADO-12
		Versión:	05
		Página	87/104
		Sección ISO	8.3
		Fecha de emisión	08 de agosto de 2025
Facultad de Ingeniería		Área/Departamento: Laboratorio de Química	
La impresión de este documento es una copia no controlada			

- Una vez armado el dispositivo experimental, adicione la disolución de hidróxido de sodio en el contenedor; al adicionar, cuide que las llaves de ambas buretas estén abiertas.
- Para llenar adecuadamente las buretas, suba el contenedor hasta que el nivel del líquido llegue al nivel de la llave. En ese momento cierre las llaves de las buretas.

Puesta a punto del dispositivo experimental

- Compruebe que la fuente de poder se encuentre apagada, con la perilla en la lectura mínima y oprimido el botón 0-24 V DC; posteriormente conecte la fuente.
- Conecte los tres cables banana-banana como se muestra en la figura anterior.
- Asegúrese de que el multímetro se encuentre apagado y con todos los botones hacia afuera. A continuación, encienda el multímetro y la fuente.
- Para tomar las lecturas de corriente en el multímetro debe oprimir los botones siguientes: el cuarto de izquierda a derecha (selector de amperes), el tercero de derecha a izquierda (escala de lectura de 2 [A]) y el primero de izquierda a derecha (valor cuadrático promedio).


Toma de lecturas

- Con el cronómetro en mano empiece a medir el tiempo y ajuste lo más rápidamente posible la fuente a 20.0 [V].
- El sistema debe permanecer en funcionamiento continuo durante 3 minutos (180 [s]), anotando en la tabla 1 la primera y la última lectura de la corriente (I) que se observe en el multímetro. Para realizar los cálculos que permitan determinar las cantidades teóricas del producto obtenido, utilice el promedio de las lecturas anteriores.
- Una vez transcurrido el tiempo deseado, apague la fuente.
- Espere hasta que en el interior del aparato no se tengan burbujas; entonces, desmonte el contenedor de la disolución y muévelo hasta que el nivel de la disolución en el contenedor se encuentre a una altura intermedia entre el nivel del hidrógeno y el nivel del oxígeno; posteriormente, anote el valor de los mililitros de hidrógeno (V_{H_2}) y de oxígeno obtenidos (V_{O_2}).

Tabla 1

Tiempo [s]	V [V]	I [A]	V_{H_2} [ml]	V_{O_2} [ml]
0	20		0	0
180	20			

- Use el volumen de hidrógeno para calcular:

	Manual de prácticas del Laboratorio de Química	Código:	MADO-12
		Versión:	05
		Página	88/104
		Sección ISO	8.3
		Fecha de emisión	08 de agosto de 2025
Facultad de Ingeniería		Área/Departamento: Laboratorio de Química	
La impresión de este documento es una copia no controlada			

- a. La cantidad de sustancia de hidrógeno obtenida experimentalmente y la cantidad de sustancia de electrones utilizada en el proceso.
- b. El número de Avogadro y el rendimiento porcentual de la reacción.

NOTA: Revise el apéndice de esta práctica.

Apagado del equipo

1. Ponga todos los botones del multímetro hacia afuera y desconéctelo. Por otro lado, apague la fuente, desconéctela y desconecte los cables banana-banana.
2. Para mezclar la disolución, abra las llaves de las buretas y sujetando con una mano el anillo metálico, destorníllelo. Posteriormente, mezcle la disolución con movimientos de ascenso y descenso del contenedor.


NOTA: En el apéndice de esta práctica se encuentra el tratamiento teórico para determinar la masa de sustancia producida en cada uno de los electrodos y el valor experimental del número de Avogadro.

MANEJO DE RESIDUOS

Al final del día se debe retirar la disolución de NaOH del interior del equipo y almacenarla para su reutilización en la siguiente sesión.

7. BIBLIOGRAFÍA

1. Mortimer, C. E. (1983). *Química*.
2. Russell, J. B., & Larena, A. (1988). *Química*.
3. Chang, R., & Goldsby, K. A. (2013). *Química*.
4. Brown, T. L., Le May, H. E., & Burnsten, B. E. (2014). *Química: la ciencia central*.


	Manual de prácticas del Laboratorio de Química	Código:	MADO-12
		Versión:	05
		Página	89/104
		Sección ISO	8.3
		Fecha de emisión	08 de agosto de 2025
Facultad de Ingeniería		Área/Departamento: Laboratorio de Química	
La impresión de este documento es una copia no controlada			

**CUESTIONARIO PREVIO
ELECTROQUÍMICA
ELECTRÓLISIS DE DISOLUCIONES ACUOSAS Y CONSTANTE DE AVOGADRO**

1. Diga en qué consiste:
 - a) Un proceso electrolítico
 - b) Un proceso electroquímico.
2. Dé dos aplicaciones cotidianas de cada uno de los procesos anteriores.
3. Enuncie las leyes de Faraday.
4. ¿Qué es y para qué sirve el aparato de Hofmann?
5. ¿Qué se entiende por una reacción de óxido – reducción?
6. Escriba las reacciones de oxidación y de reducción que se llevan a cabo en la electrólisis de las sales fundidas siguientes:
 - a) Cloruro de sodio, NaCl.
 - b) Bromuro de potasio, KBr.
 - c) Cloruro áurico, AuCl₃.

BIBLIOGRAFÍA

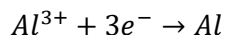
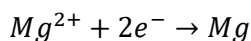
1. Mortimer, C. E. (1983). *Química*.
2. Russell, J. B., & Larena, A. (1988). *Química*.
3. Chang, R., & Goldsby, K. A. (2013). *Química*.
4. Brown, T. L., Le May, H. E., & Burnsten, B. E. (2014). *Química: la ciencia central*.

	Manual de prácticas del Laboratorio de Química	Código:	MADO-12
		Versión:	05
		Página	90/104
		Sección ISO	8.3
		Fecha de emisión	08 de agosto de 2025
Facultad de Ingeniería		Área/Departamento: Laboratorio de Química	
La impresión de este documento es una copia no controlada			

APÉNDICE ASPECTOS CUANTITATIVOS DE LA ELECTRÓLISIS

El tratamiento cuantitativo de la electrólisis fue desarrollado por Faraday. Él observó que la masa del producto formado (o reactivo consumido) en el electrodo era proporcional a la cantidad de electricidad empleada en la electrólisis.

Por ejemplo: para las reacciones siguientes, se requieren 2 [mol] de electrones para producir 1 [mol] de Mg metálico y 3 [mol] de electrones para producir 1 [mol] de Al metálico.



Por lo tanto, se requieren (en el cátodo):

2 [F] para depositar 1 [mol] de Mg y,

3 [F] para depositar 1 [mol] de Al

Donde [F] es el Faraday, cuyo valor corresponde aproximadamente a 96 485.332 [C] y representa la carga eléctrica de 1 [mol] de electrones.


En un experimento de electrólisis generalmente se mide la corriente, en [A], que fluye por el sistema en un intervalo de tiempo dado. La relación entre la carga eléctrica, la corriente y el tiempo es:

$$1 [C] = (1 [A]) (1 [s])$$

Un coulomb es la cantidad de carga eléctrica que pasa en cualquier punto del circuito en un segundo cuando la corriente es un amperio.

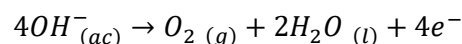
DETERMINACIÓN DE LAS CANTIDADES DE MASA QUE SE PRODUCEN

En el ejemplo siguiente se muestra cómo pueden realizarse los cálculos de las cantidades de sustancias producidas en la electrólisis del agua.

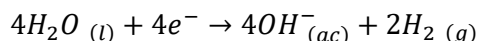
	Manual de prácticas del Laboratorio de Química	Código:	MADO-12
		Versión:	05
		Página	91/104
		Sección ISO	8.3
		Fecha de emisión	08 de agosto de 2025
Facultad de Ingeniería		Área/Departamento: Laboratorio de Química	
La impresión de este documento es una copia no controlada			

Cuando se hace pasar una corriente de 0.4 [A] durante 0.5 [h] a través de una disolución de hidróxido de sodio al 10 % m/m, se obtienen 120 [cm³] de H₂ gaseoso y 59 [cm³] de O₂ gaseoso medidos a 580 [mm] Hg y 25 [°C]. Escriba las reacciones que se llevan a cabo en cada uno de los electrodos y calcule la cantidad de productos (en gramos) que se debió de formar en los electrodos.

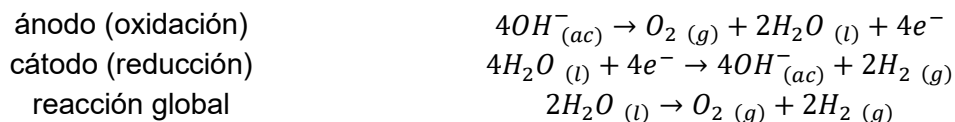
Resolución: El proceso en el ánodo es



mientras que en el cátodo se tiene



La reacción global está dada por:



Las cantidades que se forman de H₂ y de O₂ gaseosos dependen del número de electrones que pasan a través del sistema que, a su vez, depende de la corriente y el tiempo.


$$Carga [C] = (0.4 [A])(0.5 [h]) \left(\frac{3600 [s]}{1 [h]} \right) \left(\frac{1 [C]}{1 [A \cdot s]} \right) = 720 [C]$$

Ya que 1 [F] = 96 485.332 [C], y que se requieren 4 [F] para producir 2 [mol] de H₂, la masa del H₂ que se debió formar en el cátodo se calcula de la forma siguiente:

$$m [g] H_2 = 720 [C] \left(\frac{1 [F]}{96\,485.332 [C]} \right) \left(\frac{2 [mol] H_2}{4 [F]} \right) \left(\frac{2 [g] H_2}{1 [mol] H_2} \right) = 7.4622 \times 10^{-3} [g] H_2$$

La reacción en el ánodo indica que se produce 1 [mol] de O₂ por cada 4 [F]. Por lo tanto, la masa que se debió formar de O₂ es:

$$m [g] O_2 = 720 [C] \left(\frac{1 [F]}{96\,485.332 [C]} \right) \left(\frac{1 [mol] O_2}{4 [F]} \right) \left(\frac{32 [g] O_2}{1 [mol] O_2} \right) = 59.6981 \times 10^{-3} [g] O_2$$

	Manual de prácticas del Laboratorio de Química	Código:	MADO-12
		Versión:	05
		Página	92/104
		Sección ISO	8.3
		Fecha de emisión	08 de agosto de 2025
Facultad de Ingeniería		Área/Departamento: Laboratorio de Química	
La impresión de este documento es una copia no controlada			

DETERMINACIÓN DEL NÚMERO DE AVOGADRO

La expresión que se emplea para calcular el valor de la constante de Avogadro (N_A) es la siguiente:

$$N_A = \frac{\# e}{n_e}$$

donde:

$\# e$ = cantidad de electrones empleados en el proceso

n_e = moles de electrones empleados en el proceso

Para calcular la cantidad de electrones empleados en el proceso, se emplea la expresión siguiente:

$$\# e = \frac{X [C]}{e}$$

donde, $X [C]$ es la cantidad de carga eléctrica involucrada en el proceso y e es la carga eléctrica fundamental. Así, para este problema, se tiene:

$$\# e = \frac{720 [C]}{1.6022 \times 10^{-19} [C]} = 4.4938 \times 10^{21} \text{ electrones}$$

Por otro lado, los moles de electrones empleados se calculan considerando al hidrógeno como un gas ideal y suponiendo que la presión a la que se encuentra es la presión ambiente; tal que se emplea la expresión siguiente:

$$n_{H_2} = \frac{P_{CDMX} \cdot V_{exp}}{R \cdot T_{amb}}$$

donde:

n_{H_2} = Moles de H_2


P_{CDMX} = Presión atmosférica en la Ciudad de México, en [atm].

V_{exp} = Volumen de hidrógeno obtenido experimentalmente, en [L].

T_{amb} = Temperatura a la cual se realiza el experimento, en [K].

R = Constante de los gases ideales, en $\left[\frac{L \cdot atm}{mol \cdot K}\right]$.

Para el problema, se tendría:


	Manual de prácticas del Laboratorio de Química	Código:	MADO-12
		Versión:	05
		Página	93/104
		Sección ISO	8.3
		Fecha de emisión	08 de agosto de 2025
Facultad de Ingeniería		Área/Departamento: Laboratorio de Química	
La impresión de este documento es una copia no controlada			

$$n_{H_2} = \frac{(0.7631 \text{ [atm]})(0.120 \text{ [L]})}{\left(0.08205 \frac{\text{[L} \cdot \text{atm]}}{\text{mol} \cdot \text{K}}\right)(298.15 \text{ [K]})} = 3.7432 \times 10^{-3} \text{ [mol] } H_2$$

Por cada 1 [mol] de H₂ que se obtiene, se emplean 2 [mol] de electrones; por lo tanto, la cantidad de moles de electrones empleada en el experimento es de 7.4865x10⁻³ [mol] de electrones.


Finalmente, para calcular el valor de la constante de Avogadro se tendría:

$$N_A = \frac{4.4938 \times 10^{21} \text{ [electrones]}}{7.4865 \times 10^{-3} \text{ [mol] de electrones}} = 6.0025 \times 10^{23} \text{ [electrones/mol]}$$

	Manual de prácticas del Laboratorio de Química	Código:	MADO-12
		Versión:	05
		Página	94/104
		Sección ISO	8.3
		Fecha de emisión	08 de agosto de 2025
Facultad de Ingeniería		Área/Departamento: Laboratorio de Química	
La impresión de este documento es una copia no controlada			

Práctica 10

PROCESOS ESPONTÁNEOS. CONSTRUCCIÓN DE UNA PILA

	Manual de prácticas del Laboratorio de Química	Código:	MADO-12
		Versión:	05
		Página	95/104
		Sección ISO	8.3
		Fecha de emisión	08 de agosto de 2025
Facultad de Ingeniería		Área/Departamento: Laboratorio de Química	
La impresión de este documento es una copia no controlada			

1. SEGURIDAD EN LA EJECUCIÓN

	Peligro o fuente de energía	Riesgo asociado
1	Manejo de material de vidrio.	Si es manipulado inadecuadamente puede romperse en fragmentos filosos.
2	Parrilla eléctrica	Si no se usa con precaución, puede provocar quemaduras de piel.
3	Sustancias químicas.	Su manipulación requiere lavarse las manos al finalizar la práctica.

2. OBJETIVOS

EL ALUMNADO:

- Llevará a cabo una reacción redox espontánea.
- Construirá una pila de Daniell, empleando las sustancias utilizadas en la reacción redox.
- Identificará las reacciones que se llevan a cabo en el cátodo y en el ánodo, respectivamente.
- Medirá la fuerza electromotriz de la pila construida.
- Determinará el porcentaje de error de la fuerza electromotriz de la pila.

3. INTRODUCCIÓN


Como parte del estudio de la electroquímica es necesario abordar el comportamiento de las reacciones redox espontáneas.

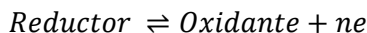
Una reacción espontánea es aquella que al ocurrir libera energía que puede ser usada para producir un trabajo. Esta cantidad de energía queda definida por el valor en el cambio de energía libre del sistema cuando ocurre la reacción (ΔG_R). Por su parte, una reacción redox es una reacción química en la que se da una transferencia de electrones entre especies químicas, lo que da lugar a que se presenten de forma simultánea los procesos de oxidación y reducción correspondientes.

La especie química que pierde electrones experimenta una oxidación mientras que la especie química que gana electrones presenta una reducción. Asimismo, podemos definir que toda especie química que se reduce es un oxidante.



mientras que toda especie química que se oxida es un reductor.

	Manual de prácticas del Laboratorio de Química	Código:	MADO-12
		Versión:	05
		Página	96/104
		Sección ISO	8.3
		Fecha de emisión	08 de agosto de 2025
Facultad de Ingeniería		Área/Departamento: Laboratorio de Química	
La impresión de este documento es una copia no controlada			



Estos electrones intercambiados durante una reacción redox pueden ser usados para generar un flujo de corriente eléctrica a través de un conductor, si se diseña un dispositivo apropiado. De esta manera se puede producir energía eléctrica mediante una reacción química.


En esta práctica se abordará la espontaneidad de una reacción redox desde dos perspectivas complementarias. Por un lado, se observará la formación espontánea de cobre metálico a partir de iones Cu^{2+} , como una manifestación de la transferencia de electrones durante la reducción de dichos iones. Por otro, se aprovechará esta misma reacción para construir una pila de Daniell, capaz de transformar la energía química liberada en energía eléctrica. La diferencia esencial entre ambas situaciones radica en que, mientras en una se permite obtener físicamente el metal producto de la reducción de los iones, en la otra se canaliza la transferencia de electrones para generar una corriente eléctrica.

4. EQUIPO Y MATERIAL

- a) 1 parrilla de agitación.
- b) 1 vaso de precipitados de 100 [ml].
- c) 1 agitador magnético.
- d) 3 vasos de precipitados de 30 [ml].
- e) 1 espátula
- f) 2 cables caimán - caimán.
- g) 2 cables de conexión banana-banana.
- h) 1 lija de agua, delgada.
- i) 1 multímetro digital Fluke 87.
- j) 1 tira de papel filtro de 15 [cm] x 1 [cm], aproximadamente.
- k) 1 pinza para cristales.

5. REACTIVOS

- 1) Sulfato de cobre pentahidratado, $\text{CuSO}_4 \cdot 5\text{H}_2\text{O}$.
- 2) 1 piseta con agua destilada.
- 3) Cinc metálico granular, Zn.
- 4) 1 placa de cobre.
- 5) 1 placa de cinc.
- 6) Disolución 1 [M] de sulfato de cobre, CuSO_4 .
- 7) Disolución 1 [M] de sulfato de cinc, ZnSO_4 .

	Manual de prácticas del Laboratorio de Química	Código:	MADO-12
		Versión:	05
		Página	97/104
		Sección ISO	8.3
		Fecha de emisión	08 de agosto de 2025
Facultad de Ingeniería		Área/Departamento: Laboratorio de Química	
La impresión de este documento es una copia no controlada			

8) Disolución 1 [M] de cloruro de potasio, KCl.

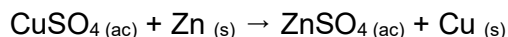
6. DESARROLLO

ACTIVIDAD 1

La figura docente verificará que el alumnado posea los conocimientos teóricos necesarios para la realización de la práctica y dará las recomendaciones necesarias para el manejo del material y de los reactivos químicos.

ACTIVIDAD 2.

Reacción redox espontánea. Obtención de cobre.



Para llevar a cabo la reacción química realice lo siguiente:

1. En un vaso de precipitados de 100 [ml], previamente pesado (peso del vaso = m_1) coloque 1.5 [g] de $\text{CuSO}_4 \cdot 5\text{H}_2\text{O}$, adicione 40 [ml] de agua destilada, coloque el agitador magnético y ponga en agitación. Evite que se salpiquen las paredes del vaso.
2. Agregue, a la disolución anterior, 0.3 [g] de cinc granular y continúe con la agitación por espacio de 5 minutos, al cabo de los cuales ya habrá reaccionado todo el cinc. Retire el agitador magnético y anote sus observaciones.
3. Espere a que sedimente todo el cobre y decante el líquido dentro de uno de los vasos de 100 [ml], evitando en la medida de lo posible la pérdida de cobre.


MANEJO DE RESIDUOS

El sulfato de cinc que haya reunido deberá colocarlo en el recipiente que está etiquetado como $\text{ZnSO}_4 (\text{ac})$.

4. Para lavar el cobre obtenido, adicione aproximadamente 10 [ml] de agua destilada con la piseta, agite y espere a que se sedimente el cobre para decantar el líquido. Repita esta operación dos veces.

MANEJO DE RESIDUOS

El líquido, aún contiene sulfato de cinc disuelto (ZnSO_4), por lo que se deberá colocar en el recipiente que está etiquetado como $\text{ZnSO}_4 (\text{ac})$. Sea cuidadoso al decantar y evite derramar el cobre.

	Manual de prácticas del Laboratorio de Química	Código:	MADO-12
		Versión:	05
		Página	98/104
		Sección ISO	8.3
		Fecha de emisión	08 de agosto de 2025
Facultad de Ingeniería		Área/Departamento: Laboratorio de Química	
La impresión de este documento es una copia no controlada			

- El cobre ya lavado que quedó en el vaso de precipitados se seca por evaporación en la parrilla.

NOTA:

La evaporación debe ser con ligero calentamiento para evitar la ebullición del líquido y la oxidación del cobre.


- Una vez que se tiene el cobre completamente seco, se deja enfriar y se pesa junto con el vaso (m_2). La cantidad de cobre producido en el experimento se determina por diferencia de masas: $m_{\text{Cu,exp}} = m_2 - m_1$. Este dato representa su rendimiento experimental.
- Realice los cálculos necesarios para obtener la masa de cobre que debió producirse y el rendimiento porcentual de la reacción.

ACTIVIDAD 3

Construcción de una celda de Daniell.

- Adicione aproximadamente 20 [ml] de la disolución 1 [M] de sulfato de cobre, CuSO_4 , en uno de los vasos de precipitados y en el otro vaso de precipitados, adicione aproximadamente 20 [ml] de la disolución 1 [M] de sulfato de cinc, ZnSO_4 .
- Por otra parte, asegúrese de que el multímetro se encuentre apagado y con todos los botones hacia fuera.
- Tome los cables banana-banana y conecte los a los bornes que están en la parte izquierda del equipo de la siguiente manera:
 - el cable negro al borne negro (o polo común)
 - el cable rojo al borne rojo que se encuentra en la parte superior y que está marcado con una V. De esta manera, tendrá listo el equipo para determinar la diferencia de potencial (voltaje).
- Tome los cables caimán-caimán y utilícelos para conectar las placas de metal (electrodos) a los cables que ha conectado al multímetro de la siguiente manera:
 - Conecte la lámina de cinc al cable negro del multímetro.
 - Conecte la lámina de cobre al cable rojo.

NOTA: Si las placas se encuentran oxidadas, se recomienda eliminar dicho óxido lijándolas con la lija de agua, lo cual se aprecia cuando las placas quedan con brillo.


	Manual de prácticas del Laboratorio de Química	Código:	MADO-12
		Versión:	05
		Página	99/104
		Sección ISO	8.3
		Fecha de emisión	08 de agosto de 2025
Facultad de Ingeniería		Área/Departamento: Laboratorio de Química	
La impresión de este documento es una copia no controlada			

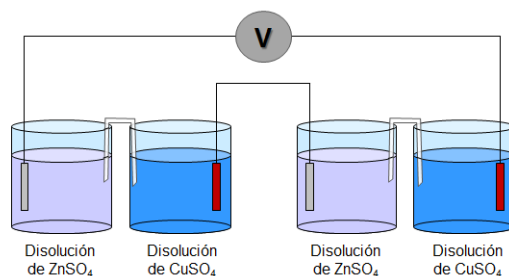
5. Con mucho cuidado, sin dejar caer los electrodos o salpicar las disoluciones, introduzca cada placa de metal en la disolución de su catión correspondiente; es decir: la lámina de cobre en la disolución de sulfato de cobre (azul) y la lámina de cinc en la disolución de sulfato de cinc (incolora). Cuide que las placas de metal no toquen la pared o el fondo del vaso de precipitados. Evite que los caimanes se mojen.
6. Humedezca la tira de papel filtro en la disolución de cloruro de potasio, KCl 1 [M] ayudándose de las pinzas para cristales y coloque cada extremo de éste dentro de cada disolución de cationes, para tener el puente salino. Asegúrese de que el papel filtro no toque las láminas de metal.
7. Conecte los cables del multímetro. El cable negro a la terminal "COM" mientras el cable rojo a la terminal de color rojo que está a la derecha y está marcada con los símbolos: V, Ω .
8. Conecte los cables caimán-caimán a los cables del multímetro, de tal forma que:
 - La lámina de cobre se conecte al polo positivo del multímetro (cable rojo)
 - La lámina de cinc se conecte al polo negativo del multímetro (cable negro).
 - Gire la perilla a la opción de medición de diferencia de potencial en Volts de corriente directa (gire la perilla hasta el segundo símbolo V). En caso de que la lectura sea inferior a 1000 [mV] use la escala en miliVolts (símbolo: mV).
 - Registre la diferencia de potencial de la pila.
9. Sin apagar el multímetro, quite el puente salino y registre sus observaciones. Anote la lectura de diferencia de potencial (voltaje) que indica el equipo.

ACTIVIDAD 4

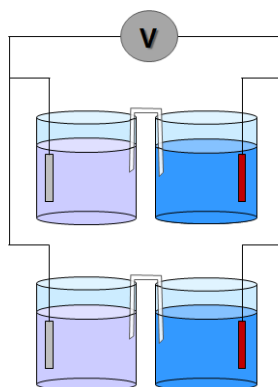
La figura docente realizará las siguientes actividades y sólo si el tiempo de la sesión lo permite, podrá indicarle al estudiantado que las realice:

1. Realizará la conexión en serie y medirá la diferencia de potencial (fuerza electromotriz) del arreglo, según se muestra en la figura siguiente.
NOTA: Recuerde que la lámina de cinc se conecta al cable negro y la lámina de cobre al cable rojo. Anote la lectura.

	Manual de prácticas del Laboratorio de Química	Código:	MADO-12
		Versión:	05
		Página	100/104
		Sección ISO	8.3
		Fecha de emisión	08 de agosto de 2025
Facultad de Ingeniería		Área/Departamento: Laboratorio de Química	
La impresión de este documento es una copia no controlada			



2. Desconectará las pilas y realizará la conexión en paralelo para medir la fuerza electromotriz del arreglo, que aparece en la figura siguiente. Anote la lectura.

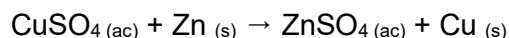


MANEJO DE RESIDUOS


Las disoluciones de CuSO₄ y ZnSO₄ se devuelven a sus respectivos recipientes.

ACTIVIDAD 5

1. Escriba las semirreacciones de oxidación y reducción del proceso redox:




Identifique cuál de los metales utilizados actúa como el cátodo y cuál como el ánodo. Justifique su respuesta.

	Manual de prácticas del Laboratorio de Química	Código:	MADO-12
		Versión:	05
		Página	101/104
		Sección ISO	8.3
		Fecha de emisión	08 de agosto de 2025
Facultad de Ingeniería		Área/Departamento: Laboratorio de Química	
La impresión de este documento es una copia no controlada			

2. Identifique cuál de los metales utilizados actúa como el cátodo y cuál como el ánodo. Justifique su respuesta.
3. Escriba el diagrama de la pila con los metales empleados.
4. Calcule la fuerza electromotriz de la pila construida, consultando los valores de potenciales de reducción medidos en el estado estándar de las sustancias utilizadas.
5. Calcule el porcentaje de error de la fuerza electromotriz obtenida.
6. Identifique y explique cuáles pueden ser las causas de los resultados obtenidos.
7. Compare los valores obtenidos de la fuerza electromotriz de la conexión en serie y en paralelo de las pilas y justifique la razón de dichos resultados.

7. BIBLIOGRAFÍA

1. Chang, R., & Goldsby, K. A. (2013). Química.
2. Brown, T. L., Le May, H. E., & Burnsten, B. E. (2014). *Química: la ciencia central*.
3. Russell, J. B., & Larena, A. (1988). *Química*.
4. Garritz, A., Gasque, L., & Martínez, A. (2005). *Química Universitaria*. *

	Manual de prácticas del Laboratorio de Química	Código:	MADO-12
		Versión:	05
		Página	102/104
		Sección ISO	8.3
		Fecha de emisión	08 de agosto de 2025
Facultad de Ingeniería		Área/Departamento: Laboratorio de Química	
La impresión de este documento es una copia no controlada			

CUESTIONARIO PREVIO CONSTRUCCIÓN DE UNA PILA

1. Defina los conceptos siguientes:

- a) Oxidación
- b) Reducción
- c) Agente oxidante
- d) Agente reductor
- e) Fuerza electromotriz o diferencia de potencial
- f) Potencial estándar de reducción

2. ¿Qué es una reacción espontánea?

4. ¿Qué es una pila y cuáles son los elementos básicos que la constituyen?

5. Investigue, cómo es el funcionamiento de una pila y describa el papel que juegan: las reacciones químicas así como el proceso de flujo de los electrones durante su funcionamiento.


6. Calcule el potencial de celda a partir de los siguientes pares redox y escriba la reacción química global



7. Si tuviera que construir una pila a partir de los siguientes pares redox:




¿cuál generará el mayor potencial de celda?

	Manual de prácticas del Laboratorio de Química	Código:	MADO-12
		Versión:	05
		Página	103/104
		Sección ISO	8.3
		Fecha de emisión	08 de agosto de 2025
Facultad de Ingeniería		Área/Departamento: Laboratorio de Química	
La impresión de este documento es una copia no controlada			

BIBLIOGRAFÍA

1. Chang, R., & Goldsby, K. A. (2013). Química.
2. Brown, T. L., Le May, H. E., & Burnsten, B. E. (2014). *Química: la ciencia central*.
3. Russell, J. B., & Larena, A. (1988). *Química*.
4. Garritz, A., Gasque, L., & Martínez, A. (2005). *Química Universitaria*. *

	Manual de prácticas del Laboratorio de Química	Código:	MADO-12
		Versión:	05
		Página	104/104
		Sección ISO	8.3
		Fecha de emisión	08 de agosto de 2025
Facultad de Ingeniería		Área/Departamento: Laboratorio de Química	
La impresión de este documento es una copia no controlada			

Agradecimientos especiales:

Las prácticas: 7. Termoquímica. Entalpía de una reacción química y 8. Equilibrio químico fueron diseñadas y validadas gracias al apoyo de DGAPA a través del proyecto PAPIME – PE108924.